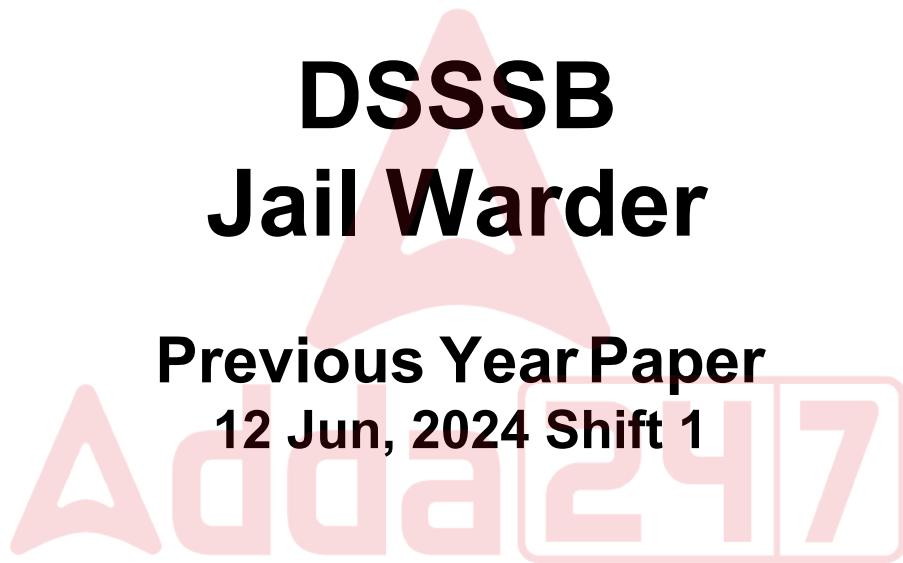


# **DSSSB Jail Warder**

**Previous Year Paper**  
**12 Jun, 2024 Shift 1**



# Test Prime

**ALL EXAMS,  
ONE SUBSCRIPTION**



**70,000+**  
Mock Tests



**Personalised  
Report Card**



**Unlimited  
Re-Attempt**



**600+**  
Exam Covered



**Previous Year  
Papers**



**500%**  
Refund



**ATTEMPT FREE MOCK NOW**



Delhi Subordinate Services Selection Board  
FC-18, Institutional Area, Karkardooma, Delhi – 110092.  
[www.dsssb.delhigovt.nic.in](http://www.dsssb.delhigovt.nic.in)

Participant ID	
Participant Name	
Test Center Name	
Test Date	12/06/2024
Test Time	8:30 AM - 10:30 AM
Subject	Warder Reserved for male Only

Section : General intelligence and Reasoning Ability 1

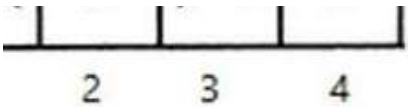
Q.1 यदि S का अर्थ (×), T का अर्थ (-), U का अर्थ (÷) और V का अर्थ (+) है, तो निम्नलिखित अभिव्यक्ति का मान क्या होगा?

(24 U 8) V (8 S 6)

- Ans
- 1. 48
  - 2. 49
  - 3. 50
  - 4. 51

Question ID : 630680835401  
Option 1 ID : 6306803272390  
Option 2 ID : 6306803272391  
Option 3 ID : 6306803272392  
Option 4 ID : 6306803272393

Q.2 क्लॉक वाइज या एंटी क्लॉक वाइज के आधार पर वह आकृति ज्ञात कीजिए जो नीचे दिए गए शेष आकृति विकल्पों से भिन्न है।



- Ans
- 1. 1
  - 2. 2
  - 3. 4
  - 4. 3

Question ID : 630680835448  
Option 1 ID : 6306803272578  
Option 2 ID : 6306803272579  
Option 3 ID : 6306803272581  
Option 4 ID : 6306803272580

Q.3 दिए गए कथनों और निष्कर्षों को ध्यानपूर्वक पढ़ें। यह मानते हुए कि कथनों में दी गई जानकारी सत्य है, भले ही यह सामान्यतः ज्ञात तथ्यों से भिन्न प्रतीत होती हो, निर्णय लें कि दिए गए निष्कर्षों में से कौन सा निष्कर्ष कथनों का तार्किक रूप से अनुसरण करता है।

कथन:

- A. कुछ टमाटर फल हैं।  
B. कुछ टमाटर सूप हैं।

निष्कर्ष:

1. सभी टमाटर सूप हैं।  
2. सभी सूप टमाटर हैं।

- Ans 1. केवल निष्कर्ष 1 अनुसरण करता है  
2. न तो निष्कर्ष 1 और न ही 2 अनुसरण करता है  
3. दोनों निष्कर्ष 1 और 2 अनुसरण करते हैं  
4. केवल निष्कर्ष 2 अनुसरण करता है

Question ID : 630680835431  
Option 1 ID : 6306803272510  
Option 2 ID : 6306803272512  
Option 3 ID : 6306803272513  
Option 4 ID : 6306803272511

Q.4 केवल वर्णमाला क्रम के आधार पर निम्नलिखित श्रृंखला को तार्किक रूप से पूर्ण बनाने के लिए प्रश्न चिह्न (?) के स्थान पर क्या आएगा?

V, W, Y, B, F, K, ?

- Ans 1. S  
2. T  
3. Q  
4. R

Question ID : 630680835395  
Option 1 ID : 6306803272368  
Option 2 ID : 6306803272369  
Option 3 ID : 6306803272367  
Option 4 ID : 6306803272366

Q.5 केवल अभाज्य संख्याओं के आधार पर निम्नलिखित में से कौन सा जोड़ा नीचे दिए गए अभिव्यक्ति के समान है?

97 : 31

- Ans 1. 70 : 13  
2. 13 : 16  
3. 19 : 63  
4. 47 : 73

Question ID : 630680835459  
Option 1 ID : 6306803272622  
Option 2 ID : 6306803272624  
Option 3 ID : 6306803272623  
Option 4 ID : 6306803272625



Q.6 मिताली(महिला) के पति के भाई के पिता का मिताली के पति से क्या संबंध है?

- Ans

1. पिता

2. चाचा

3. मामा

4. दादा

Question ID : 630680835320

Option 1 ID : 6306803272062

Option 2 ID : 6306803272065

Option 3 ID : 6306803272063

Option 4 ID : 6306803272064

Q.7 यदि 40 छात्रों के समूह में गीता की रैंक ऊपर से 13वीं है तो नीचे से उसकी रैंक कितनी होगी?

- Ans

1. 28

2. 23

3. 22

4. 25

Question ID : 630680835307

Option 1 ID : 6306803272012

Option 2 ID : 6306803272011

Option 3 ID : 6306803272010

Option 4 ID : 6306803272013

Q.8 एक निश्चित कूट भाषा में, REAP को 40 के रूप में लिखा जाता है और CRY को 46 के रूप में लिखा जाता है। उसी कूट भाषा में GRAND को कैसे लिखा जाएगा?

- Ans

1. 47

2. 44

3. 46

4. 48

Question ID : 630680835419

Option 1 ID : 6306803272463

Option 2 ID : 6306803272465

Option 3 ID : 6306803272462

Option 4 ID : 6306803272464

Q.9 How many such letters are there in the series given below, each of which is immediately preceded by a symbol?

7 N # 9 J 0 L 5 S \$ 3 \* P % & A 8 6 B 2 \* H 4

- Ans

1. 5

2. 1

3. 2

4. 3

Question ID : 630680835373

Option 1 ID : 6306803272281

Option 2 ID : 6306803272278

Option 3 ID : 6306803272279

Option 4 ID : 6306803272280

7/5/24, 11:53 AM

cdn.di ialm.com// er/ 01/ ub/1258/touchstone/AssessmentQPHTMLMode1//1258O24204/1258O24204S7D1091/1718799232809...

Q.10 यदि '\$' का अर्थ '-' है, '\*' का अर्थ '+' है, '@' का अर्थ '÷' है, '#' का अर्थ 'x' है, तो निम्नलिखित अभिव्यक्ति का मान क्या होगा?

$$4 \# 4 * 18 @ 6 \$ 6 = ?$$

- Ans
1. 16
  2. 15
  3. 14
  4. 13

Question ID : 630680835341  
Option 1 ID : 6306803272149  
Option 2 ID : 6306803272148  
Option 3 ID : 6306803272147  
Option 4 ID : 6306803272146

Q.11 केवल अभाज्य संख्याओं के आधार पर निम्नलिखित में से कौन सा युग्म नीचे दिए गए अभिव्यक्ति के समान है?

19 : 23

- Ans
1. 71 : 77
  2. 19 : 62
  3. 13 : 16
  4. 37 : 59

Question ID : 630680835408  
Option 1 ID : 6306803272418  
Option 2 ID : 6306803272419  
Option 3 ID : 6306803272420  
Option 4 ID : 6306803272421

Q.12 Which of the following options based only on common sense and general mental ability without regard to any scientific and technical facts is different from the other three options based on fruits and flowers?

- Ans
1. Hibiscus
  2. Banana
  3. Rose
  4. Orange

Question ID : 630680835439  
Option 1 ID : 6306803272544  
Option 2 ID : 6306803272543  
Option 3 ID : 6306803272542  
Option 4 ID : 6306803272545

7/5/24, 11:53 AM

cdn.di ialm.com// er/ 01/ ub/1258/touchstone/AssessmentQPHTMLMode1//1258O24204/1258O24204S7D1091/1718799232809...

Q.13 नीचे दी गई श्रृंखला को केवल जोड़ने और घटाने की प्रक्रिया, जो भी लागू हो, का उपयोग करके तार्किक रूप से पूर्ण बनाने के लिए प्रश्न चिह्न (?) के स्थान पर क्या आएगा?

27, 23, 29, 25, 31, ?, ?

- Ans
1. 33, 27
  2. 27, 33
  3. 35, 28
  4. 28, 35

Question ID : 630680835453  
Option 1 ID : 6306803272601  
Option 2 ID : 6306803272600  
Option 3 ID : 6306803272598  
Option 4 ID : 6306803272599

Q.14 एक निश्चित कूट भाषा में, KANPUR को RUPNAK के रूप में और DELHI को IHLED के रूप में लिखा जाता है। उसी कूट भाषा में AGARTALA कैसे लिखा जाएगा?

- Ans
1. ALATRAGA
  2. AGARTALA
  3. ALATAGAR
  4. AGARALAT

Question ID : 630680835421  
Option 1 ID : 6306803272470  
Option 2 ID : 6306803272473  
Option 3 ID : 6306803272472  
Option 4 ID : 6306803272471

Q.15 निम्नलिखित में से कौन सा विकल्प किसी भी वैज्ञानिक और तकनीकी तथ्यों पर ध्यान दिए बिना, केवल सामान्य मानसिक क्षमता और सामान्य मानसिक समझ के आधार पर डिवाइस और उसके कार्य के आधार पर प्रश्न चिह्न को प्रतिस्थापित करेगा?

कलम : लिखना :: कुल्हाड़ी : ?

- Ans
1. स्केचिंग
  2. आवर्धन
  3. पेंटिंग
  4. काटना

Question ID : 630680835327  
Option 1 ID : 6306803272092  
Option 2 ID : 6306803272093  
Option 3 ID : 6306803272091  
Option 4 ID : 6306803272090

Q.16 If the following words are arranged in the dictionary order then which of the following word will come on the third place ?

Respect, Strong, Tough, Underground

- Ans
1. Underground
  2. Tough
  3. Respect
  4. Strong

Question ID : 630680835427  
Option 1 ID : 6306803272497  
Option 2 ID : 6306803272496  
Option 3 ID : 6306803272494  
Option 4 ID : 6306803272495

Q.17 Five men namely Asit, Bindesh, Raju, Kush and Piyush are sitting in a straight line facing north. Asit is sitting on the extreme left end of the row. Bindesh is sitting between Asit and Kush. Kush is sitting exactly between Bindesh and Piyush. If Piyush is sitting immediately to the left of Raju from the right end, then who is sitting in the middle of the line?

- Ans
1. Piyush
  2. Asit
  3. Kush
  4. Bindesh

Question ID : 630680835362  
Option 1 ID : 6306803272237  
Option 2 ID : 6306803272234  
Option 3 ID : 6306803272236  
Option 4 ID : 6306803272235

Q.18 एक खेल की कक्षा में, कई छात्र एक पंक्ति में खड़े हैं। दोनों ओर से, एक छात्र की रैंक 27 पाई गई। खेल की कक्षा में कुल कितने छात्र हैं?

- Ans
1. 53
  2. 45
  3. 35
  4. 54

Question ID : 630680835414  
Option 1 ID : 6306803272442  
Option 2 ID : 6306803272444  
Option 3 ID : 6306803272443  
Option 4 ID : 6306803272445

Q.19 Six friends Amita, Vinita, Chandni, Diya, Neerja, and Roshni are sitting in a row facing north. Amita is sitting immediately before Chandni from left . Chandni is sitting between Amita and Neerja. Vinita is sitting immediately to the right of Neerja. Roshni is sitting immediate left of Amita. If Diya is sitting at the right end of the row, then who is sitting on the left end of the row?

- Ans
1. Vinita
  2. Neerja
  3. Chandni
  4. Roshni

Question ID : 630680835303  
Option 1 ID : 6306803271994  
Option 2 ID : 6306803271996  
Option 3 ID : 6306803271995  
Option 4 ID : 6306803271997

Q.20 निम्नलिखित श्रृंखला को तार्किक रूप से पूर्ण बनाने के लिए प्रश्न चिह्न (?) के स्थान पर क्या आएगा?

BE, BF, BG, BH, ?

- Ans
1. BK
  2. BJ
  3. BI
  4. BL

Question ID : 630680835337  
Option 1 ID : 6306803272132  
Option 2 ID : 6306803272131  
Option 3 ID : 6306803272130  
Option 4 ID : 6306803272133

Section : General intelligence and Reasoning Ability 2

Q.1 अल्फाबेट्स के अंकीय मान के आधार पर निम्नलिखित श्रृंखला को तार्किक रूप से पूर्ण बनाने के लिए प्रश्न चिह्न (?) के स्थान पर क्या आएगा?

L, U, D, M, V, ?

- Ans
1. G
  2. E
  3. C
  4. H

Question ID : 630680835443  
Option 1 ID : 6306803272559  
Option 2 ID : 6306803272560  
Option 3 ID : 6306803272561  
Option 4 ID : 6306803272558



7/5/24, 11:53 AM

cdn.di ialm.com// er/ 01/ ub/1258/touchstone/AssessmentQPHTMLMode1//1258O24204/1258O24204S7D1091/1718799232809...

Q.2 दिए गए कथनों और निष्कर्षों को ध्यानपूर्वक पढ़ें। यह मानते हुए कि कथनों में दी गई जानकारी सत्य है, भले ही यह सामान्यतः ज्ञात तथ्यों से भिन्न प्रतीत होती हो, निर्णय लें कि दिए गए निष्कर्षों में से कौन सा निष्कर्ष कथनों का तार्किक रूप से अनुसरण करता है।

कथन:

- A. कुछ बिटा डॉट्स हैं।  
B. कुछ बिटा कोलन हैं।

निष्कर्ष:

1. सभी डॉट्स कोलन हैं।  
2. सभी कोलन डॉट्स हैं।

- Ans 1. केवल निष्कर्ष 2 अनुसरण करता है  
2. दोनों निष्कर्ष 1 और 2 अनुसरण करते हैं  
3. केवल निष्कर्ष 1 अनुसरण करता है  
4. न तो निष्कर्ष 1 और न ही 2 अनुसरण करता है

Question ID : 630680835432  
Option 1 ID : 6306803272515  
Option 2 ID : 6306803272517  
Option 3 ID : 6306803272514  
Option 4 ID : 6306803272516

Q.3 नीचे दी गई श्रृंखला को केवल जोड़ने और घटाने की प्रक्रिया, जो भी लागू हो, का उपयोग करके तार्किक रूप से पूर्ण बनाने के लिए प्रश्न चिह्न (?) के स्थान पर क्या आएगा?

16, 19, 27, 30, 38, ?, ?

- Ans 1. 40, 48  
2. 49, 41  
3. 48, 40  
4. 41, 49

Question ID : 630680835404  
Option 1 ID : 6306803272403  
Option 2 ID : 6306803272404  
Option 3 ID : 6306803272402  
Option 4 ID : 6306803272405

Q.4 On the basis of only common mental understanding and general mental ability without caring about any scientific and technical aspect, which of the following options is different from the other three options based on flowers and fruits?

- Ans 1. Lotus  
2. Jasmine  
3. Lily  
4. Grape

Question ID : 630680835442  
Option 1 ID : 6306803272554  
Option 2 ID : 6306803272556  
Option 3 ID : 6306803272557  
Option 4 ID : 6306803272555

7/5/24, 11:53 AM

cdn.di ialm.com// er/ 01/ ub/1258/touchstone/AssessmentQPHTMLMode1//1258O24204/1258O24204S7D1091/1718799232809...

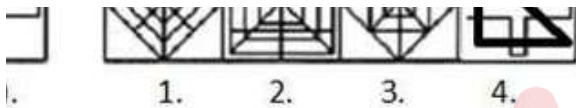
Q.5 निम्नलिखित में से कौन सा युग्म नीचे दिए गए अभिव्यक्ति के समान है?

3581 : 1853  
5978 : 8795

- Ans
1. 5274: 4725
  2. 7331: 1373
  3. 4578: 4587
  4. 1356: 1365

Question ID : 630680835405  
Option 1 ID : 6306803272407  
Option 2 ID : 6306803272408  
Option 3 ID : 6306803272409  
Option 4 ID : 6306803272406

Q.6 निम्नलिखित में से कौन सा विकल्प मूल छवि (X) को एम्बेड करेगा?



- Ans
1. 1
  2. 2
  3. 4
  4. 3

Question ID : 630680835396  
Option 1 ID : 6306803272370  
Option 2 ID : 6306803272371  
Option 3 ID : 6306803272373  
Option 4 ID : 6306803272372

Q.7 किसी भी वैज्ञानिक और तकनीकी तथ्यों की परवाह किए बिना केवल सामान्य ज्ञान और सामान्य मानसिक क्षमता के आधार पर निम्नलिखित में से कौन सा विकल्प फिल्म निर्माण के आधार पर अन्य तीन विकल्पों से अलग है?

- Ans
1. फ़िल्म
  2. निर्माता
  3. निदेशक
  4. पटकथा लेखक

Question ID : 630680835388  
Option 1 ID : 6306803272340  
Option 2 ID : 6306803272338  
Option 3 ID : 6306803272339  
Option 4 ID : 6306803272341

Q.8 वैज्ञानिक एवं तकनीकी तथ्यों की परवाह किये बिना केवल सामान्य मानसिक योग्यता एवं सामान्य मानसिक समझ के आधार पर निम्नलिखित में से कौन सा विकल्प विषयों और उनके उप-विषयों के आधार पर प्रश्न चिह्न का स्थान लेगा?

अर्थशास्त्र: बजट :: इतिहास:?

- Ans
1. जलवायु

2. दिल्ली सल्तनत

3. अंकगणित

4. हाइड्रोजन

Question ID : 630680835434  
Option 1 ID : 6306803272525  
Option 2 ID : 6306803272524  
Option 3 ID : 6306803272523  
Option 4 ID : 6306803272522

Q.9 On the basis of general mental ability and general mental understanding only, without regard to scientific and technical facts, which of the following options will replace the question mark on the basis of workers and their tools?

Chef: Knife :: Sculptor:?

- Ans
1. Bread

2. Chisel

3. Sword

4. Pen

Question ID : 630680835433  
Option 1 ID : 6306803272518  
Option 2 ID : 6306803272521  
Option 3 ID : 6306803272520  
Option 4 ID : 6306803272519

Q.10 If all the numbers are removed from the series given below, which will be the 9th element from the right?

O 7 @ K 7 # A 6 G 4 \* L ^ 4 K & M 9 K & 3 G

- Ans
1. ^

2. G

3. L

4. \*

Question ID : 630680835423  
Option 1 ID : 6306803272478  
Option 2 ID : 6306803272481  
Option 3 ID : 6306803272479  
Option 4 ID : 6306803272480

7/5/24, 11:53 AM

cdn.di ialm.com// er/ 01/ ub/1258/touchstone/AssessmentQPHTMLMode1//1258O24204/1258O24204S7D1091/1718799232809...

Q.11 एक तस्वीर की ओर इशारा करते हुए सीमा (महिला) कहती है कि तस्वीर में दिख रही महिला सीमा के पिता के बेटे की इकलौती बहन है। सीमा का तस्वीर में दिख रही महिला से क्या संबंध है?

- Ans
1. माँ
  2. स्वयं सीमा
  3. बहन
  4. चचेरी बहन

Question ID : 630680835321  
Option 1 ID : 6306803272069  
Option 2 ID : 6306803272066  
Option 3 ID : 6306803272067  
Option 4 ID : 6306803272068

Q.12 यदि '\$' का अर्थ '-' है, '\*' का अर्थ '+' है, '@' का अर्थ '÷' है, '#' का अर्थ 'x' है, तो निम्नलिखित अभिव्यक्ति का मान क्या होगा?

$$4 \# 3 * 8 @ 2 \$ 5 = ?$$

- Ans
1. 14
  2. 15
  3. 16
  4. 11

Question ID : 630680835399  
Option 1 ID : 6306803272383  
Option 2 ID : 6306803272384  
Option 3 ID : 6306803272385  
Option 4 ID : 6306803272382

Q.13 एक निश्चित कोड भाषा में, RED को 27 के रूप में लिखा जाता है और BLUE को 40 के रूप में लिखा जाता है। उसी कोड भाषा में GREEN को कैसे लिखा जाएगा?

- Ans
1. 46
  2. 47
  3. 49
  4. 48

Question ID : 630680835311  
Option 1 ID : 6306803272026  
Option 2 ID : 6306803272027  
Option 3 ID : 6306803272029  
Option 4 ID : 6306803272028

Q.14 यदि निम्नलिखित शब्दों को शब्दकोष क्रम में व्यवस्थित किया जाए, तो निम्नलिखित में से कौन सा चौथे स्थान पर आएगा?

- Ans
1. Forget
  2. Respective
  3. Successful
  4. Torque

Question ID : 630680835317  
Option 1 ID : 6306803272052  
Option 2 ID : 6306803272051  
Option 3 ID : 6306803272050  
Option 4 ID : 6306803272053

Q.15 दिए गए कथनों और निष्कर्षों को ध्यानपूर्वक पढ़ें। यह मानते हुए कि कथनों में दी गई जानकारी सत्य है, भले ही यह सामान्यतः ज्ञात तथ्यों से भिन्न प्रतीत होती हो, निर्णय लें कि दिए गए निष्कर्षों में से कौन सा निष्कर्ष कथनों का तार्किक रूप से अनुसरण करता है।

कथन:

- A. कुछ कौवे खरगोश हैं।
- B. कुछ कौवे हाथी हैं।

निष्कर्ष:

1. सभी खरगोश हाथी हैं।
2. सभी कौवे हाथी हैं।

- Ans
1. केवल निष्कर्ष 1 अनुसरण करता है
  2. न तो निष्कर्ष 1 और न ही 2 अनुसरण करता है
  3. केवल निष्कर्ष 2 अनुसरण करता है
  4. दोनों निष्कर्ष 1 और 2 अनुसरण करते हैं

Question ID : 630680835323  
Option 1 ID : 6306803272074  
Option 2 ID : 6306803272076  
Option 3 ID : 6306803272075  
Option 4 ID : 6306803272077

Q.16 किसी भी वैज्ञानिक और तकनीकी तथ्यों की परवाह किए बिना केवल सामान्य ज्ञान और सामान्य मानसिक क्षमता के आधार पर, निम्नलिखित में से कौन सा विकल्प अंगों, आंतरिक अंगों और मानव शरीर के आधार पर अन्य तीन विकल्पों से अलग है?

- Ans
1. किडनी
  2. हृदय
  3. फेफड़े
  4. सिर

Question ID : 630680835391  
Option 1 ID : 6306803272352  
Option 2 ID : 6306803272353  
Option 3 ID : 6306803272351  
Option 4 ID : 6306803272350



7/5/24, 11:53 AM

cdn.di ialm.com// er/ 01/ ub/1258/touchstone/AssessmentQPHTMLMode1//1258O24204/1258O24204S7D1091/1718799232809...

Q.17 वैज्ञानिक एवं तकनीकी तथ्यों पर ध्यान दिए बिना केवल सामान्य मानसिक योग्यता एवं सामान्य मानसिक समझ के आधार पर निम्नलिखित में से कौन सा विकल्प उत्पाद और कच्चे माल के आधार पर प्रश्न चिह्न का स्थान लेगा?

मक्खन : दूध :: चावल : ?

- Ans
1. मक्का
  2. गेहूं
  3. धान
  4. ऊन

Question ID : 630680835387  
Option 1 ID : 6306803272335  
Option 2 ID : 6306803272337  
Option 3 ID : 6306803272334  
Option 4 ID : 6306803272336

Q.18 Six friends Amita, Vinita, Chandni, Diya, Neerja, and Roshni are sitting in a row facing north. Amita is sitting immediately before Chandni from left . Chandni is sitting between Amita and Neerja. Vinita is sitting immediately to the right of Neerja. Roshni is sitting immediate left of Amita. If Diya is sitting at the right end of the row then, who is sitting between Chandni and Vinita?

- Ans
1. Chandni
  2. Roshni
  3. Vinita
  4. Neerja

Question ID : 630680835305  
Option 1 ID : 6306803272003  
Option 2 ID : 6306803272005  
Option 3 ID : 6306803272002  
Option 4 ID : 6306803272004

Q.19 केवल अंकों के योग विधि के आधार पर निम्नलिखित में से कौन सा युग्म नीचे दिए गए अभिव्यक्ति के समान है?

587 : 20  
123 : 06

- Ans
1. 340 : 50
  2. 458 : 17
  3. 198 : 15
  4. 289 : 17

Question ID : 630680835349  
Option 1 ID : 6306803272180  
Option 2 ID : 6306803272181  
Option 3 ID : 6306803272178  
Option 4 ID : 6306803272179

7/5/24, 11:53 AM

cdn.di ialm.com// er/ 01/ ub/1258/touchstone/AssessmentQPHTMLMode1//1258O24204/1258O24204S7D1091/1718799232809...

Q.20 अवनि, बानो, चंदन, दीपम, काजल और सोहन छह दोस्त हैं जो इमारत की अलग-अलग मंजिलों पर रहते हैं लेकिन जरूरी नहीं कि इसी क्रम में हों। अवनि और काजल क्रमशः ऊपरी और निचली मंजिल पर हैं। बानो, अवनी और चंदन की मंजिल के ठीक बीच में रहती है। दीपम, चंदन और सोहन की मंजिल के ठीक बीच में रहता है। ऊपर से तीसरी मंजिल पर कौन रहता है?

- Ans
1. अवनी
  2. दीपम
  3. चंदन
  4. काजल

Question ID : 630680835369  
Option 1 ID : 6306803272262  
Option 2 ID : 6306803272264  
Option 3 ID : 6306803272263  
Option 4 ID : 6306803272265

Section : General Awareness 1

Q.1 निम्नलिखित में से कौन 1887 में कलकता में आयोजित भारतीय राष्ट्रीय कांग्रेस के अध्यक्ष थे?

- Ans
1. सुरेंद्रनाथ बनर्जी
  2. दादाभाई नौरोजी
  3. डबल्यू. सी. बनर्जी
  4. ए.ओ. ह्यूम

Question ID : 630680840339  
Option 1 ID : 6306803292040  
Option 2 ID : 6306803292037  
Option 3 ID : 6306803292039  
Option 4 ID : 6306803292038

Q.2 How many types of justice have been mentioned in the Preamble of the Indian Constitution?

- Ans
1. 4
  2. 3
  3. 2
  4. 5

Question ID : 630680839273  
Option 1 ID : 6306803287774  
Option 2 ID : 6306803287775  
Option 3 ID : 6306803287776  
Option 4 ID : 6306803287773

Q.3 नारी शक्ति वंदन अधिनियम, लोकसभा, राज्य विधानसभाओं और \_\_\_\_\_ की विधान सभा में महिलाओं के लिए सीटें आरक्षित करता है?

Ans

1. लद्दाख
2. अंडमान द्वीप
3. चंडीगढ़
4. राष्ट्रीय राजधानी क्षेत्र दिल्ली

Question ID : 630680840330  
Option 1 ID : 6306803292004  
Option 2 ID : 6306803292003  
Option 3 ID : 6306803292001  
Option 4 ID : 6306803292002

Q.4 एडविन लुटियंस और हर्बर्ट बेकर वे आर्किटेक्ट हैं जिन्होंने भारत में संसद का मॉडल डिजाइन किया था। संसद भवन की आधारशिला \_\_\_\_\_ को रखी गई थी और निर्माण 18 जनवरी, 1927 को पूरा हुआ था।

Ans

1. 12 फरवरी, 1919
2. 12 फरवरी, 1923
3. 12 फरवरी, 1921.
4. 12 फरवरी, 1920

Question ID : 630680839279  
Option 1 ID : 6306803287800  
Option 2 ID : 6306803287797  
Option 3 ID : 6306803287799  
Option 4 ID : 6306803287798

Q.5 भारत में निम्नलिखित में से किस स्थान पर भारतीय राष्ट्रीय कांग्रेस की स्थापना की गई थी?

Ans

1. मद्रास
2. लाहौर
3. बंबई
4. कलकत्ता

Question ID : 630680840338  
Option 1 ID : 6306803292036  
Option 2 ID : 6306803292033  
Option 3 ID : 6306803292035  
Option 4 ID : 6306803292034

Q.6 शिशु मृत्यु दर प्रति 1000 जीवित जन्मों पर \_\_\_\_\_ वर्ष की आयु से पहले शिशुओं की मृत्यु की संख्या है।

Ans

1. 2 वर्ष
2. 1 वर्ष
3. 2 महीने
4. 6 महीने

Question ID : 630680840354  
Option 1 ID : 6306803292100  
Option 2 ID : 6306803292098  
Option 3 ID : 6306803292099  
Option 4 ID : 6306803292097

7/5/24, 11:53 AM

cdn.di ialm.com// er/ 01/ ub/1258/touchstone/AssessmentQPHTMLMode1//1258O24204/1258O24204S7D1091/1718799232809...

Q.7 \_\_\_\_\_ को श्रद्धांजलि देने के लिए पूरे भारत में जन जातीय गौरव दिवस मनाया गया।

Ans

1. सिद्धू कान्हू
2. तिलका मांझी
3. भगवान बिरसा मुंडा
4. अल्लूरी सीताराम राजू

Question ID : 630680839246

Option 1 ID : 6306803287666

Option 2 ID : 6306803287665

Option 3 ID : 6306803287667

Option 4 ID : 6306803287668

Q.8 निम्नलिखित में से किसने मेजर ध्यानचंद खेल रत्न पुरस्कार 2023 जीता है? (उत्तर केवल दिए गए विकल्पों में से दें।)

Ans

1. मोहम्मद शमी
2. स्मृति मंधाना
3. रंकीरेड्डी सात्विक साई राज
4. विराट कोहली

Question ID : 630680840322

Option 1 ID : 6306803291969

Option 2 ID : 6306803291971

Option 3 ID : 6306803291972

Option 4 ID : 6306803291970

Q.9 निम्नलिखित में से किसने पॉवर्टी एंड अन-ब्रिटिश रूल इन इंडिया पुस्तक लिखी है ?

Ans

1. दादाभाई नौरोजी
2. सुरेंद्रनाथ बनर्जी
3. डबल्यू. सी. बनर्जी
4. ए.ओ. ह्यूम

Question ID : 630680839257

Option 1 ID : 6306803287709

Option 2 ID : 6306803287712

Option 3 ID : 6306803287711

Option 4 ID : 6306803287710

Q.10 जिन जानवरों में शरीर गुहा अनुपस्थित होती है उन्हें \_\_\_\_\_ कहा जाता है।

Ans

1. कोएल
2. एकोएलोमेट्स
3. स्फूडोकोइलोमेट्स
4. सीलोमेट्स

Question ID : 630680840364

Option 1 ID : 6306803292139

Option 2 ID : 6306803292138

Option 3 ID : 6306803292137

Option 4 ID : 6306803292140

Q.11 भारत का सर्वोच्च न्यायालय भारत के संविधान के तहत सर्वोच्च न्यायिक निकाय है। संविधान के अनुच्छेद \_\_\_\_\_ में कहा गया है कि “भारत का एक सर्वोच्च न्यायालय होगा।

- Ans
1. 133
  2. 128
  3. 135
  4. 124

Question ID : 630680839278  
Option 1 ID : 6306803287795  
Option 2 ID : 6306803287794  
Option 3 ID : 6306803287796  
Option 4 ID : 6306803287793

Q.12 These forests are restricted to heavy rainfall areas of the Western Ghats and the island groups of Lakshadweep, Andaman and Nicobar, upper parts of Assam and Tamil Nadu coast. Which kind of forest has been discussed here?

- Ans
1. Tropical Evergreen Forests
  2. Mangrove Forest
  3. Tropical Deciduous Forests
  4. Montane Forest

Question ID : 630680839269  
Option 1 ID : 6306803287759  
Option 2 ID : 6306803287760  
Option 3 ID : 6306803287758  
Option 4 ID : 6306803287757

Q.13 भारत सरकार ने मौजूदा प्रजनन और बाल स्वास्थ्य (आरसीएच) और संचारी और गैर-संचारी रोग सेवाओं का विस्तार और सुदृढ़ीकरण करके व्यापक प्राथमिक स्वास्थ्य देखभाल (सीपीएचसी) प्रदान करने के लिए 2023 में आयुष्मान भारत स्वास्थ्य और कल्याण केंद्रों (एबी-एचडब्ल्यूसी) का नाम बदलकर \_\_\_\_\_ कर दिया। .

- Ans
1. आयुष्मान आरोग्य मंदिर
  2. अमृत स्वास्थ्य केंद्र
  3. अमृत सामुदायिक स्वास्थ्य केंद्र
  4. अमृत आरोग्य मंदिर

Question ID : 630680839253  
Option 1 ID : 6306803287694  
Option 2 ID : 6306803287695  
Option 3 ID : 6306803287696  
Option 4 ID : 6306803287693



Q.14 निम्नलिखित में से किस पोषक तत्व की कमी से स्कर्वी नामक रोग होता है?

- Ans
1. विटामिन C
  2. वसा
  3. विटामिन B
  4. प्रोटीन

Question ID : 630680840366  
Option 1 ID : 6306803292147  
Option 2 ID : 6306803292148  
Option 3 ID : 6306803292146  
Option 4 ID : 6306803292145

Q.15 \_\_\_\_\_ वे प्राप्तिपत्र(Receipt) हैं जिन पर सरकार पर कोई दावा नहीं बनता है। इसलिए उन्हें गैर-प्रतिदेय कहा जाता है। इन्हें कर और गैर-कर में विभाजित किया गया है

- Ans
1. पूंजीगत प्राप्तिपत्र
  2. नियोजित प्राप्तिपत्र
  3. संतुलित प्राप्तिपत्र
  4. राजस्व प्राप्तिपत्र

Question ID : 630680839255  
Option 1 ID : 6306803287702  
Option 2 ID : 6306803287701  
Option 3 ID : 6306803287704  
Option 4 ID : 6306803287703

Q.16 टॉम्ब ऑफ सैंड(रेत की समाधि ) निम्नलिखित में से किसकी रचना है?

- Ans
1. गीतांजली श्री
  2. अमर्त्य सेन
  3. अरविंद आडिगा
  4. अरुंधति रॉय

Question ID : 630680840342  
Option 1 ID : 6306803292050  
Option 2 ID : 6306803292051  
Option 3 ID : 6306803292049  
Option 4 ID : 6306803292052

Q.17 Ugadi Festival is primarily associated with which of the following states of India?

- Ans
1. Nagaland
  2. Manipur
  3. Sikkim
  4. Andhra Pradesh

Question ID : 630680840348  
Option 1 ID : 6306803292074  
Option 2 ID : 6306803292075  
Option 3 ID : 6306803292076  
Option 4 ID : 6306803292073

7/5/24, 11:53 AM

cdn.di ialm.com// er/ 01/ ub/1258/touchstone/AssessmentQPHTMLMode1//1258O24204/1258O24204S7D1091/1718799232809...

Q.18 "राष्ट्रपति प्रत्येक वित्तीय वर्ष के संबंध में उस वर्ष के लिए भारत सरकार की अनुमानित प्राप्तियों और व्यय का एक विवरण संसद के दोनों सदनों के समक्ष रखवाएंगे, जिसे "वार्षिक वित्तीय विवरण" कहा जाएगा।, यहाँ भारतीय संविधान के किस अनुच्छेद का उल्लेख किया गया है?

- Ans
1. अनुच्छेद - 118
  2. अनुच्छेद - 115
  3. अनुच्छेद - 112
  4. अनुच्छेद - 116

Question ID : 630680840335  
Option 1 ID : 6306803292024  
Option 2 ID : 6306803292022  
Option 3 ID : 6306803292021  
Option 4 ID : 6306803292023

Q.19 When the primary tributaries of rivers flow parallel to each other and secondary tributaries join them at right angles, the pattern is known as\_\_\_\_\_.

- Ans
1. Radial
  2. Dendritic
  3. Centripetal
  4. Trellis

Question ID : 630680839268  
Option 1 ID : 6306803287755  
Option 2 ID : 6306803287753  
Option 3 ID : 6306803287756  
Option 4 ID : 6306803287754

Q.20 31 जनवरी 2024 तक निम्नलिखित में से कौन सी भाषा भारत की शास्त्रीय भाषाओं की सूची में शामिल नहीं है?

- Ans
1. मैथिली
  2. तेलुगू
  3. संस्कृत
  4. तामिल

Question ID : 630680840344  
Option 1 ID : 6306803292057  
Option 2 ID : 6306803292060  
Option 3 ID : 6306803292058  
Option 4 ID : 6306803292059

Section : General Awareness 2

7/5/24, 11:53 AM

cdn.di ialm.com// er/ 01/ ub/1258/touchstone/AssessmentQPHTMLMode1//1258O24204/1258O24204S7D1091/1718799232809...

Q.1 ऐसी अर्थव्यवस्था क्या है जिसमें निजी क्षेत्र और सरकारी क्षेत्र दोनों मौजूद और संचालित होते हैं?

Ans

1. बाजार अर्थव्यवस्था
2. पारंपरिक अर्थव्यवस्था
3. अर्थव्यवस्था पर पकड़ रखें
4. मिश्रित अर्थव्यवस्था

Question ID : 630680839254  
Option 1 ID : 6306803287698  
Option 2 ID : 6306803287700  
Option 3 ID : 6306803287699  
Option 4 ID : 6306803287697

Q.2 हमपी के खंडहरों को 1800 में \_\_\_\_\_ नामक एक इंजीनियर और पुरातत्ववेत्ता द्वारा प्रकाश में लाया गया था।

Ans

1. फ्रांसिस ग्रांट
2. हेनरी हार्डिंग
3. जोसेफ नोएल पैटन
4. कर्नल कॉलिन मैकेंज़ी

Question ID : 630680839259  
Option 1 ID : 6306803287717  
Option 2 ID : 6306803287718  
Option 3 ID : 6306803287720  
Option 4 ID : 6306803287719

Q.3 31 जनवरी – 2024 तक निम्नलिखित में से कौन सी भाषा भारत की शास्त्रीय भाषाओं की सूची में शामिल नहीं है?

Ans

1. हिंदी
2. ओडिया
3. तमिल
4. मलयालम

Question ID : 630680839262  
Option 1 ID : 6306803287729  
Option 2 ID : 6306803287730  
Option 3 ID : 6306803287731  
Option 4 ID : 6306803287732

Q.4 जनगणना समय-समय पर की जाने वाली जनसंख्या की एक आधिकारिक गणना है। भारत में पहली जनगणना वर्ष \_\_\_\_\_ में हुई थी।

Ans

1. 1872
2. 1871
3. 1881
4. 1951

Question ID : 630680839271  
Option 1 ID : 6306803287765  
Option 2 ID : 6306803287766  
Option 3 ID : 6306803287767  
Option 4 ID : 6306803287768

7/5/24, 11:53 AM

cdn.di ialm.com// er/ 01/ ub/1258/touchstone/AssessmentQPHTMLMode1//1258O24204/1258O24204S7D1091/1718799232809...

Q.5 “चुनावों का अधीक्षण, निर्देशन और नियंत्रण एक चुनाव आयोग को सौंपा जाएगा”, यहाँ भारतीय संविधान के किस अनुच्छेद का उल्लेख किया गया है?

- Ans
1. अनुच्छेद - 324
  2. अनुच्छेद - 329
  3. अनुच्छेद - 328
  4. अनुच्छेद - 345

Question ID : 630680839276  
Option 1 ID : 6306803287785  
Option 2 ID : 6306803287787  
Option 3 ID : 6306803287786  
Option 4 ID : 6306803287788

Q.6 वर्ष 2023 में भारत में राष्ट्रीय खेलों का कौन सा संस्करण आयोजित किया गया?

- Ans
1. 37 वें
  2. 34 वें
  3. 38 वें
  4. 35 वें

Question ID : 630680839242  
Option 1 ID : 6306803287649  
Option 2 ID : 6306803287652  
Option 3 ID : 6306803287650  
Option 4 ID : 6306803287651

Q.7 निम्नलिखित में से किस पोषकतत्व की कमी से बेरिबेरी नामक रोग होता है?

- Ans
1. विटामिन B – K
  2. वसा
  3. प्रोटीन
  4. विटामिन B – 1

Question ID : 630680839283  
Option 1 ID : 6306803287814  
Option 2 ID : 6306803287816  
Option 3 ID : 6306803287813  
Option 4 ID : 6306803287815

Q.8 निम्नलिखित में से कौन सा अंतर्राष्ट्रीय बुकर पुरस्कार जीतने वाला पहला हिंदी उपन्यास है?

- Ans
1. गॉड ऑफ स्मॉल थिंग्स
  2. टॉम्ब ऑफ सैंड(रेत की समाधि )
  3. द एंड ऑफ इमैजिनेशन
  4. व्हाइट टाइगर

Question ID : 630680839260  
Option 1 ID : 6306803287724  
Option 2 ID : 6306803287722  
Option 3 ID : 6306803287723  
Option 4 ID : 6306803287721

Q.9 निम्नलिखित में से किस दिन, जन जातीय गौरव दिवस पूरे भारत में मनाया जाता है?

- Ans
1. 25 अगस्त
  2. 15 नवंबर
  3. 31 दिसंबर
  4. 31 जनवरी

Question ID : 630680840327  
Option 1 ID : 6306803291992  
Option 2 ID : 6306803291991  
Option 3 ID : 6306803291990  
Option 4 ID : 6306803291989

Q.10 The Himalayas consist of three parallel ranges in its longitudinal extent. with the northern-most range being \_\_\_\_.

- Ans
1. Aravalli
  2. Himadri
  3. Kalsubai
  4. Shivalik

Question ID : 630680840349  
Option 1 ID : 6306803292077  
Option 2 ID : 6306803292079  
Option 3 ID : 6306803292080  
Option 4 ID : 6306803292078

Q.11 \_\_\_\_\_ सभी नागा जनजातियों का एक आधुनिक सांस्कृतिक उत्सव है। यह उत्सव एक वार्षिक कार्यक्रम है जो आमतौर पर 01 से 10 दिसंबर तक होता है। इस उत्सव की परिकल्पना विविधता में एकता की भावना के साथ पारंपरिक और समकालीन नागा संस्कृति को प्रदर्शित करने के लिए की गई थी।

- Ans
1. निशागांधी महोत्सव
  2. हॉर्नबिल महोत्सव
  3. उगाडि महोत्सव
  4. आदि महोत्सव

Question ID : 630680839266  
Option 1 ID : 6306803287747  
Option 2 ID : 6306803287745  
Option 3 ID : 6306803287746  
Option 4 ID : 6306803287748

Q.12 भारतीय संविधान के किस भाग में मौलिक कर्तव्यों की चर्चा की गई है?

- Ans
1. भाग – V A
  2. भाग – IV
  3. भाग – V
  4. भाग – IV A

Question ID : 630680839274  
Option 1 ID : 6306803287777  
Option 2 ID : 6306803287779  
Option 3 ID : 6306803287780  
Option 4 ID : 6306803287778



Q.13 ये भारत के सबसे विस्तृत वन हैं। इन्हें मानसून वन भी कहा जाता है और ये 200 सेमी से 70 सेमी के बीच वर्षा वाले क्षेत्र में फैले हुए हैं। इस वन प्रकार के पेड़ शुष्क गर्मी में लगभग छह से आठ सप्ताह तक अपनी पत्तियाँ गिरा देते हैं। यहाँ किस प्रकार के वन का उल्लेख किया गया है?

- Ans
1. पर्वतीय वन
  2. उष्णकटिबंधीय सदाबहार वन
  3. उष्णकटिबंधीय पर्णपाती वन
  4. मैंग्रोव वन

Question ID : 630680840351  
Option 1 ID : 6306803292085  
Option 2 ID : 6306803292087  
Option 3 ID : 6306803292086  
Option 4 ID : 6306803292088

Q.14 भारतीय राष्ट्रीय कांग्रेस की स्थापना तब हुई थी, जब पूरे देश से \_\_\_\_\_ प्रतिनिधि महाराष्ट्र (तब बॉम्बे प्रांत के रूप में जाना जाता था) में मिले थे?

- Ans
1. 85
  2. 125
  3. 80
  4. 72

Question ID : 630680839256  
Option 1 ID : 6306803287708  
Option 2 ID : 6306803287705  
Option 3 ID : 6306803287706  
Option 4 ID : 6306803287707

Q.15 नारी शक्ति वंदन अधिनियम, 2023 ने लोकसभा और राज्य/केंद्र शासित प्रदेश विधानमंडलों में महिलाओं को \_\_\_\_\_ आरक्षण देने को मंजूरी दे दी है?

- Ans
1. एक तिहाई
  2. पाँचवा भाग
  3. एक चौथाई
  4. छठवाँ भाग

Question ID : 630680839249  
Option 1 ID : 6306803287678  
Option 2 ID : 6306803287677  
Option 3 ID : 6306803287680  
Option 4 ID : 6306803287679

Q.16 भारत में कोविशील्ड वैक्सीन का निर्माण/उत्पादन निम्नलिखित में से किसके द्वारा किया गया है?

- Ans
1. एम्स, नई दिल्ली
  2. भारत बायो टेक
  3. स्वास्थ्य और परिवार कल्याण मंत्रालय।
  4. सीरम इंस्टीट्यूट ऑफ इंडिया

Question ID : 630680840334  
Option 1 ID : 6306803292019  
Option 2 ID : 6306803292017  
Option 3 ID : 6306803292020  
Option 4 ID : 6306803292018

Q.17 निम्नलिखित में से किस वर्ष में कोशिकाएँ पहली बार खोजी गई थी ?

- Ans
1. 1695 ई
  2. 1665 ई
  3. 1680 ई
  4. 1725 ई

Question ID : 630680839282  
Option 1 ID : 6306803287811  
Option 2 ID : 6306803287809  
Option 3 ID : 6306803287810  
Option 4 ID : 6306803287812

Q.18 भारत का संविधान, चरित्र में गणतांत्रिक और संरचना में संघीय, संसदीय प्रणाली की मुख्य विशेषताओं का प्रतीक है। यह संघ के लिए एक संसद का प्रावधान करता है जिसमें \_\_\_\_\_ और दो सदन, अर्थात् राज्य सभा (राज्यों की परिषद) और लोकसभा (लोगों का सदन) शामिल हैं।

- Ans
1. उपराष्ट्रपति
  2. लोकसभा अध्यक्ष
  3. राष्ट्रपति
  4. प्रधान मंत्री

Question ID : 630680840362  
Option 1 ID : 6306803292132  
Option 2 ID : 6306803292129  
Option 3 ID : 6306803292131  
Option 4 ID : 6306803292130

Q.19 निम्नलिखित में से किस वर्ष भारत में जीएसटी (लागू किया गया था?

- Ans
1. 2017
  2. 2015
  3. 2014
  4. 2019

Question ID : 630680840336  
Option 1 ID : 6306803292027  
Option 2 ID : 6306803292026  
Option 3 ID : 6306803292025  
Option 4 ID : 6306803292028

Q.20 रज़िया सुल्तान दिल्ली सल्तनत के निम्नलिखित में से किस राजवंश से संबंधित थी?

- Ans
1. मामलुक वंश/गुलाम वंश
  2. लोदी वंश
  3. खिलजी वंश
  4. तुगलक वंश

Question ID : 630680839258  
Option 1 ID : 6306803287716  
Option 2 ID : 6306803287715  
Option 3 ID : 6306803287713  
Option 4 ID : 6306803287714

Section : **Arithmetical and Numerical Ability 1**

**Q.1** How many twin primes are there between 100 and 150?

- Ans
1. 6
  2. 3
  3. 5
  4. 4

Question ID : 630680840449  
Option 1 ID : 6306803292480  
Option 2 ID : 6306803292478  
Option 3 ID : 6306803292479  
Option 4 ID : 6306803292477

**Q.2** A और B एक काम को 5 दिनों में कर सकते हैं, जबकि C और D उसी काम को 14 दिनों में कर सकते हैं। A, B, C और D इसे एक साथ कितने दिनों में पूरा करेंगे?

- Ans
1. 62/18 दिन
  2. 60/9 दिन
  3. 70/19 दिन
  4. 77/20 दिन

Question ID : 630680840467  
Option 1 ID : 6306803292551  
Option 2 ID : 6306803292549  
Option 3 ID : 6306803292552  
Option 4 ID : 6306803292550

**Q.3** एक आदमी ₹ 440 में एक खिलौना खरीदता है और उसे 16% की हानि पर बेचता है। खिलौने का विक्रय मूल्य क्या होगा?

- Ans
1. ₹ 369.60
  2. ₹ 310.25
  3. ₹ 373.80
  4. ₹ 345.50

Question ID : 630680840457  
Option 1 ID : 6306803292511  
Option 2 ID : 6306803292509  
Option 3 ID : 6306803292512  
Option 4 ID : 6306803292510

**Q.4** 21 से 60 तक कितने प्रतिशत संख्याओं का इकाई अंक 1 या 9 है?

- Ans
1. 20%
  2. 25%
  3. 27.5%
  4. 22.5%

Question ID : 630680840452  
Option 1 ID : 6306803292489  
Option 2 ID : 6306803292491  
Option 3 ID : 6306803292492  
Option 4 ID : 6306803292490

7/5/24, 11:53 AM

cdn.di ialm.com// er/ 01/ ub/1258/touchstone/AssessmentQPHTMLMode1//1258O24204/1258O24204S7D1091/1718799232809...

Q.5

Ans

1. 18854 से.मी.<sup>3</sup>
2. 19074 से.मी.<sup>3</sup>
3. 19860 से.मी.<sup>3</sup>
4. 16324 से.मी.<sup>3</sup>

Question ID : 630680840478  
Option 1 ID : 6306803292593  
Option 2 ID : 6306803292595  
Option 3 ID : 6306803292594  
Option 4 ID : 6306803292596

Q.6 A certain sum amounts to ₹ 5,887 in 2 years at 16% per annum compound interest (compounded yearly), the sum is.

Ans

1. ₹ 4786
2. ₹ 4523
3. ₹ 4375
4. ₹ 4126

Question ID : 630680840439  
Option 1 ID : 6306803292440  
Option 2 ID : 6306803292439  
Option 3 ID : 6306803292438  
Option 4 ID : 6306803292437

Q.7 एक शहर की जनसंख्या 30000 है। यदि वार्षिक जन्म दर 9% और मृत्यु दर 7% है, तो 2 वर्ष बाद उस शहर की जनसंख्या कितनी होगी?

Ans

1. 31212
2. 28561
3. 31205
4. 29172

Question ID : 630680840456  
Option 1 ID : 6306803292508  
Option 2 ID : 6306803292505  
Option 3 ID : 6306803292507  
Option 4 ID : 6306803292506

7/5/24, 11:53 AM

cdn.di ialm.com// er/ 01/ ub/1258/touchstone/AssessmentQPHTMLMode1//1258O24204/1258O24204S7D1091/1718799232809...

Q.8

प्रमाण सहाना (जनपरा-मह) म 6 स्तर (A, B, C, D, E और F) द्वारा प्रया गइ कारा का संख्या

A	B	C	D	E	F
356	234	245	412	341	203
315	245	274	300	412	230
287	253	314	325	365	280
345	322	412	290	256	321
423	345	270	285	268	310

सभी दिए गए दुकानों द्वारा बेची गई कारों की औसत संख्या क्या है?

- Ans
1. 305
  2. 296
  3. 300
  4. 302

Question ID : 630680840444  
Option 1 ID : 6306803292460  
Option 2 ID : 6306803292457  
Option 3 ID : 6306803292458  
Option 4 ID : 6306803292459

Q.9

- Ans
1. 12.40 से.मी.<sup>2</sup>
  2. 32.52 से.मी.<sup>2</sup>
  3. 12.56 से.मी.<sup>2</sup>
  4. 33.63 से.मी.<sup>2</sup>

Question ID : 630680840475  
Option 1 ID : 6306803292582  
Option 2 ID : 6306803292583  
Option 3 ID : 6306803292581  
Option 4 ID : 6306803292584

Q.10 दो ट्रेनों की गति के बीच का अनुपात 5: 8 है। यदि दूसरी ट्रेन 3 घंटे में 330 कि.मी. चलती है, तो पहली ट्रेन की गति क्या होगी?

- Ans
1. 59.45 कि.मी./घंटा
  2. 68.75 कि.मी./घंटा
  3. 68.67 कि.मी./घंटा
  4. 68.55 कि.मी./घंटा

Question ID : 630680840421  
Option 1 ID : 6306803292366  
Option 2 ID : 6306803292367  
Option 3 ID : 6306803292368  
Option 4 ID : 6306803292365

7/5/24, 11:53 AM

cdn.di ialm.com// er/ 01/ ub/1258/touchstone/AssessmentQPHTMLMode1//1258O24204/1258O24204S7D1091/1718799232809...

Q.11

- Ans
- 1.
  - 2.
  - 3.
  - 4.

Question ID : 630680840445  
Option 1 ID : 6306803292461  
Option 2 ID : 6306803292463  
Option 3 ID : 6306803292464  
Option 4 ID : 6306803292462

Q.12 5 लगातार संख्याओं में तीसरी और चौथी संख्या का औसत 27.25 है। इन 5 संख्याओं का योग क्या होगा?

- Ans
1. 135
  2. 29
  3. 162
  4. 132

Question ID : 630680840433  
Option 1 ID : 6306803292414  
Option 2 ID : 6306803292413  
Option 3 ID : 6306803292416  
Option 4 ID : 6306803292415

Q.13 यदि  $628xy$  3, 7 और 11 से विभाजित होने वाली 5 अंकों की सबसे बड़ी संख्या है, तो  $(4x - 3y)$  का मान क्या है?

- Ans
1. 3
  2. 6
  3. 5
  4. 8

Question ID : 630680840450  
Option 1 ID : 6306803292481  
Option 2 ID : 6306803292483  
Option 3 ID : 6306803292482  
Option 4 ID : 6306803292484

7/5/24, 11:53 AM

cdn.di ialm.com// er/ 01/ ub/1258/touchstone/AssessmentQPHTMLMode1//1258O24204/1258O24204S7D1091/1718799232809...

Q.14 248 से.मी.<sup>3</sup> आयतन वाले एक ठोस घन को 2 से.मी. किनारे वाले छोटे ठोस घनों में विभाजित किया गया है। बनने वाले छोटे घनों की संख्या ज्ञात कीजिए।

- Ans
1. 13
  2. 31
  3. 25
  4. 30

Question ID : 630680840425  
Option 1 ID : 6306803292383  
Option 2 ID : 6306803292381  
Option 3 ID : 6306803292382  
Option 4 ID : 6306803292384

Q.15 यदि  $x : y = 1 : 3$  है, तो  $(2x + 5y) : (x + 4y)$  का मान ज्ञात कीजिए।

- Ans
1. 13 : 10
  2. 15 : 12
  3. 17 : 13
  4. 15 : 14

Question ID : 630680840463  
Option 1 ID : 6306803292533  
Option 2 ID : 6306803292536  
Option 3 ID : 6306803292534  
Option 4 ID : 6306803292535

Q.16 A moneylender charges ₹ 40 as simple interest on a sum of ₹ 600 for four months. What is the rate of interest per annum?

- Ans
1. 18 %
  2. 20 %
  3. 22 %
  4. 25 %

Question ID : 630680840388  
Option 1 ID : 6306803292233  
Option 2 ID : 6306803292234  
Option 3 ID : 6306803292235  
Option 4 ID : 6306803292236

Q.17 A shopkeeper sells a toy by giving 20% discount on its marked price and gains 25%. What is the marked price of the toy, if its cost price is ₹ 2400?

- Ans
1. ₹ 1650
  2. ₹ 1845
  3. ₹ 1990
  4. ₹ 3750

Question ID : 630680840460  
Option 1 ID : 6306803292523  
Option 2 ID : 6306803292521  
Option 3 ID : 6306803292522  
Option 4 ID : 6306803292524

7/5/24, 11:53 AM

cdn.di ialm.com// er/ 01/ ub/1258/touchstone/AssessmentQPHTMLMode1//1258O24204/1258O24204S7D1091/1718799232809...

Q.18 एक आदमी कार्यालय की ओर 5 कि.मी. प्रति घंटे की गति से यात्रा करता है और 8 कि.मी. प्रति घंटे की गति से वापस आता है। अगर उसे ऑफिस जाने और वापस आने में 16 घंटे लगते हैं तो ऑफिस घर से कितनी दूर है? (एक दशमलव स्थान तक शुद्ध)

- Ans
1. 35.5 कि.मी.
  2. 40.5 कि.मी.
  3. 55.4 कि.मी.
  4. 49.2 कि.मी.

Question ID : 630680840423  
Option 1 ID : 6306803292374  
Option 2 ID : 6306803292375  
Option 3 ID : 6306803292376  
Option 4 ID : 6306803292373

Q.19 90 से.मी. लंबाई वाली डोरी के एक टुकड़े को टुकड़ों में काटा गया, जिनकी लंबाई का अनुपात 3:7 था। सबसे लंबे टुकड़े की लंबाई ज्ञात कीजिए।

- Ans
1. 55 से.मी.
  2. 48 से.मी.
  3. 63 से.मी.
  4. 36 से.मी.

Question ID : 630680840415  
Option 1 ID : 6306803292341  
Option 2 ID : 6306803292343  
Option 3 ID : 6306803292342  
Option 4 ID : 6306803292344

Q.20



और C के उत्पादन को एक साथ दर्शाने वाले क्षेत्रों का केंद्रीय कोण (डिग्री में) ज्ञात कीजिए।

- Ans
- 1.
  - 2.
  - 3.
  - 4.

Question ID : 630680840392  
Option 1 ID : 6306803292251  
Option 2 ID : 6306803292249  
Option 3 ID : 6306803292252  
Option 4 ID : 6306803292250

Section : **Arithmetical and Numerical Ability 2**



7/5/24, 11:53 AM

cdn.di ialm.com// er/ 01/ ub/1258/touchstone/AssessmentQPHTMLMode1//1258O24204/1258O24204S7D1091/1718799232809...

**Q.1** Three times of a natural number is 28 more than the number. Then, the number is:

- Ans**
1. 18
  2. 21
  3. 20
  4. 14

Question ID : 630680840400  
Option 1 ID : 6306803292283  
Option 2 ID : 6306803292284  
Option 3 ID : 6306803292282  
Option 4 ID : 6306803292281

**Q.2** 4 से.मी. त्रिज्या वाले सीसे के एक अर्धगोले को 50 से.मी. ऊंचाई वाले एक लंब वृत्तीय शंकु में डाला जाता है। शंकु के आधार की त्रिज्या क्या होगी?

- Ans**
1. 4 से.मी
  2. 2.5 से.मी
  3. 3.8 से.मी
  4. 1.6 से.मी

Question ID : 630680840479  
Option 1 ID : 6306803292600  
Option 2 ID : 6306803292598  
Option 3 ID : 6306803292599  
Option 4 ID : 6306803292597

**Q.3** एक छात्र के 12 पेपरों में औसत अंक 40 हैं। पहले 6 पेपरों के औसत अंक 42 हैं और अंतिम सात पेपरों के औसत अंक 35 हैं। सातवें पेपर में उसे कितने अंक प्राप्त हुए?

- Ans**
1. 25
  2. 17
  3. 23
  4. 20

Question ID : 630680840384  
Option 1 ID : 6306803292217  
Option 2 ID : 6306803292220  
Option 3 ID : 6306803292218  
Option 4 ID : 6306803292219

**Q.4** बुज्जी अपनी यात्रा के पहले 4 घंटे 82 कि.मी./घंटा की गति से तय करती है। और शेष दूरी 38 कि.मी./घंटा की गति से 6 घंटे में तय करती है। कि.मी./घंटा में उसकी औसत गति क्या होगी?

- Ans**
1. 52.5
  2. 50
  3. 55.6
  4. 48

Question ID : 630680840470  
Option 1 ID : 6306803292561  
Option 2 ID : 6306803292564  
Option 3 ID : 6306803292563  
Option 4 ID : 6306803292562

7/5/24, 11:53 AM

cdn.di ialm.com// er/ 01/ ub/1258/touchstone/AssessmentQPHTMLMode1//1258O24204/1258O24204S7D1091/1718799232809...

Q.5 दो सकारात्मक संख्याओं का अनुपात 8:3 है। यदि बड़ी संख्या में 5 जोड़ा जाए और छोटी संख्या में से 2 घटाया जाए, तो बड़ी संख्या छोटी संख्या की तीन गुना हो जाती है। संख्याएँ ज्ञात करें।

- Ans
1. 72, 27
  2. 88, 33
  3. 80, 30
  4. 64, 24

Question ID : 630680840411  
Option 1 ID : 6306803292326  
Option 2 ID : 6306803292325  
Option 3 ID : 6306803292327  
Option 4 ID : 6306803292328

Q.6 320 मीटर लंबी एक ट्रेन एक पेड़ को 20 सेकंड में पार करती है और विपरीत दिशा में यात्रा कर रही समान लंबाई की दूसरी ट्रेन को 32 सेकंड में पार करती है। दूसरी ट्रेन की गति क्या है?

- Ans
1. 4 मी/से.
  2. 6 मी/से.
  3. 8 मी/से.
  4. 9 मी/से.

Question ID : 630680840472  
Option 1 ID : 6306803292570  
Option 2 ID : 6306803292572  
Option 3 ID : 6306803292569  
Option 4 ID : 6306803292571

Q.7 एक पेंसिल बॉक्स ₹ 20 में खरीदा जाता है और ₹ 45 में बेचा जाता है। अर्जित लाभ का प्रतिशत क्या होगा?

- Ans
1. 125
  2. 30
  3. 60
  4. 90

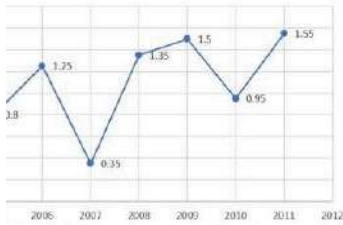
Question ID : 630680840407  
Option 1 ID : 6306803292310  
Option 2 ID : 6306803292309  
Option 3 ID : 6306803292311  
Option 4 ID : 6306803292312

7/5/24, 11:53 AM

cdn.di.ialm.com// er/ 01/ ub/1258/touchstone/AssessmentQPHTMLMode1//1258O24204/1258O24204S7D1091/1718799232809...

Q.8

बया म कसा कपना द्वारा आयात आर निर्यात क मूल्य का अनुपात



में कंपनी का आयात ₹ 400 करोड़ था, तो 2006 में कंपनी का निर्यात (₹ करोड़ में) कितना था?

Ans

- 1.
- 2.
- 3.
- 4.

Question ID : 630680840395  
Option 1 ID : 6306803292262  
Option 2 ID : 6306803292263  
Option 3 ID : 6306803292264  
Option 4 ID : 6306803292261

Q.9 Mohan has borrowed ₹ 4000 at the rate of 6% p.a. simple interest. What amount does he need to pay after 3 years to clear the debt?

Ans

1. ₹3200
2. ₹4720
3. ₹4500
4. ₹2650

Question ID : 630680840387  
Option 1 ID : 6306803292231  
Option 2 ID : 6306803292229  
Option 3 ID : 6306803292232  
Option 4 ID : 6306803292230

Q.10 चार अंकों की संख्या में, पहला अंक दूसरे अंक का एक तिहाई है, तीसरा अंक पहले और दूसरे अंक का योग है, जबकि अंतिम अंक पहले अंक का तीन गुना है। निम्नलिखित में से वह संख्या कौन सी हो सकती है?

Ans

1. 1456
2. 2686
3. 1345
4. 2608

Question ID : 630680840451  
Option 1 ID : 6306803292485  
Option 2 ID : 6306803292486  
Option 3 ID : 6306803292488  
Option 4 ID : 6306803292487

Q.11 अमरेन्द्र को परीक्षा में 94% अंक मिले। यदि उसे 470 अंक मिलते हैं, तो अधिकतम अंक ज्ञात कीजिए।

- Ans
- 1. 550
  - 2. 580
  - 3. 520
  - 4. 500

Question ID : 630680840406  
Option 1 ID : 6306803292306  
Option 2 ID : 6306803292308  
Option 3 ID : 6306803292307  
Option 4 ID : 6306803292305

Q.12

पिपितर खल खलन वलर 5 पिपितर सुसुलर वर छलर वलर वलरलः  
(एक छलर केवल एक खेल खेलतल है)

	वलरलर				
	A	B	C	D	E
ट	300	240	260	280	260
ल	209	150	160	130	180
ल	205	200	215	220	240
न	100	310	170	180	220
ल	85	90	80	75	70

में टेनिस खेलने वाले छात्रों की कुल संख्या और सभी स्कूलों में बास्केटबॉल खेलने वाले छात्रों की कुल संख्या के बीच का

- Ans
- 1.
  - 2.
  - 3.
  - 4.

Question ID : 630680840393  
Option 1 ID : 6306803292253  
Option 2 ID : 6306803292256  
Option 3 ID : 6306803292254  
Option 4 ID : 6306803292255

Q.13 Sunil buys a mobile phone by getting a discount of 30 % on its marked price and sells it at its marked price. What is his profit percent (approximate)?

- Ans
- 1. 18%
  - 2. 42.9%
  - 3. 32%
  - 4. 22.8%

Question ID : 630680840410  
Option 1 ID : 6306803292323  
Option 2 ID : 6306803292321  
Option 3 ID : 6306803292322  
Option 4 ID : 6306803292324

7/5/24, 11:53 AM

cdn.di ialm.com// er/ 01/ ub/1258/touchstone/AssessmentQPHTMLMode1//1258O24204/1258O24204S7D1091/1718799232809...

Q.14 260 और 520 का HCF क्या है?

- Ans
1. 260
  2. 120
  3. 520
  4. 160

Question ID : 630680840397  
Option 1 ID : 6306803292269  
Option 2 ID : 6306803292271  
Option 3 ID : 6306803292270  
Option 4 ID : 6306803292272

Q.15 नवनीता ने काव्या को 3% वार्षिक चक्रवृद्धि ब्याज की दर से 3 वर्ष के लिए ₹ 8200 उधार दिए। 3 वर्ष बाद नवनीता को मिलने वाली राशि (लगभग) है

- Ans
1. ₹ 8960
  2. ₹ 6340
  3. ₹ 7740
  4. ₹ 8741

Question ID : 630680840390  
Option 1 ID : 6306803292241  
Option 2 ID : 6306803292244  
Option 3 ID : 6306803292242  
Option 4 ID : 6306803292243

Q.16

- Ans
- 1.
  - 2.
  - 3.
  - 4.

Question ID : 630680840417  
Option 1 ID : 6306803292349  
Option 2 ID : 6306803292351  
Option 3 ID : 6306803292352  
Option 4 ID : 6306803292350

7/5/24, 11:53 AM

cdn.di ialm.com// er/ 01/ ub/1258/touchstone/AssessmentQPHTMLMode1//1258O24204/1258O24204S7D1091/1718799232809...

Q.17

- Ans
1. 110 से.मी.<sup>2</sup>
  2. 169 से.मी.<sup>2</sup>
  3. 122.8 से.मी.<sup>2</sup>
  4. 134.5 से.मी.<sup>2</sup>

Question ID : 630680840476  
Option 1 ID : 6306803292585  
Option 2 ID : 6306803292587  
Option 3 ID : 6306803292586  
Option 4 ID : 6306803292588

Q.18 तीन उम्मीदवारों, प्रीति, रंजीत और चंद्र ने एक चुनाव लड़ा और उन्हें क्रमशः 2000, 1910 और 2590 वोट प्राप्त हुए। प्रीति को कुल मतों का कितना प्रतिशत प्राप्त हुआ (अनुमानित)?

- Ans
1. 25 %
  2. 30.77%
  3. 44%
  4. 32.16%

Question ID : 630680840402  
Option 1 ID : 6306803292290  
Option 2 ID : 6306803292289  
Option 3 ID : 6306803292292  
Option 4 ID : 6306803292291

Q.19 यदि एक घनाभ की लंबाई और ऊंचाई क्रमशः 16 मीटर और 12 मीटर है, और इसका आयतन 3072 मीटर<sup>3</sup> है, तो इसकी चौड़ाई (मीटर में) ज्ञात करें।

- Ans
1. 10
  2. 18
  3. 16
  4. 22

Question ID : 630680840473  
Option 1 ID : 6306803292575  
Option 2 ID : 6306803292573  
Option 3 ID : 6306803292576  
Option 4 ID : 6306803292574

Q.20 दो संख्याओं का अनुपात 6 : 11 है। यदि उनके बीच का अंतर 280 है, तो दोनों संख्याओं में से छोटी संख्या कौन सी है?

- Ans
1. 325
  2. 230
  3. 336
  4. 285

Question ID : 630680840464  
Option 1 ID : 6306803292537  
Option 2 ID : 6306803292538  
Option 3 ID : 6306803292539  
Option 4 ID : 6306803292540

Section : Test of English Language and Comprehension 1

Q.1 Choose the most logical order of the sentences from among the four given choices to construct a coherent paragraph.

Artificial Intelligence (AI) has become an increasingly popular topic of discussion in recent years.

- A) Artificial Intelligence has taken over almost every industry and household with its advanced and easy to use technology.
- B) A few centuries back, who would have thought that there would be self-driving cars, robots who would even vacuum the floors of our houses or virtual assistants who would answer any of our questions without typing it on our mobile phones but here we are today with all of these facilities improving and easing our lives.
- C) Most famous examples are: Virtual assistants like Alexa, Siri and Google assistant, Self-driving cars like Nissan Pro Pilot assist and Tesla Autopilot, Robots like Roomba 980 vacuum cleaning robot.
- D) AI has been a game changer in business but outside the offices as well. Virtual assistants have removed half of the burden of the household chores as it has helped people leverage their time.

- Ans
1. CDBA
2. DCBA
3. BACD
4. ABCD

Question ID : 630680837922

Option 1 ID : 6306803282390

Option 2 ID : 6306803282387

Option 3 ID : 6306803282388

Option 4 ID : 6306803282389

Q.2 Select the appropriate article from the below options to complete the sentence. Mark “No article” if there is no requirement of article in the given sentence.

\_\_\_only tea I like is black tea.

- Ans
1. an
2. the
3. a
4. No article

Question ID : 630680837984

Option 1 ID : 6306803282634

Option 2 ID : 6306803282633

Option 3 ID : 6306803282632

Option 4 ID : 6306803282631

Q.3 A statement has been given with highlighted text. You are required to replace the text with correct idiom from the given options.

Do not (commit something that you cannot fulfill).

- Ans
1. bite off more than you can chew

2. Back against the wall

3. Cry wolf

4. Upset someone's applecart

Question ID : 630680837828

Option 1 ID : 6306803282021

Option 2 ID : 6306803282019

Option 3 ID : 6306803282022

Option 4 ID : 6306803282020

Q.4 Choose the most appropriate one-word substitution for the below word.

“ A place where money is coined”

- Ans
1. Bank

2. Treasury

3. Mint

4. Granary

Question ID : 630680838003

Option 1 ID : 6306803282709

Option 2 ID : 6306803282707

Option 3 ID : 6306803282710

Option 4 ID : 6306803282708

Q.5 Select the correct preposition from the below options to complete the below sentence.

He might not be at home \_\_ Tuesday morning but he'll probably be there in the afternoon.

- Ans
1. for

2. while

3. on

4. at

Question ID : 630680837910

Option 1 ID : 6306803282340

Option 2 ID : 6306803282342

Option 3 ID : 6306803282341

Option 4 ID : 6306803282339



Q.6 Select the appropriate article from the below options to complete the sentence. Mark “No article” if there is no requirement of article in the given sentence.

\_\_\_\_\_ artists who came to see me today are quite accomplished.

- Ans
1. A

2. No article

3. The

4. An

Question ID : 630680837800

Option 1 ID : 6306803281912

Option 2 ID : 6306803281911

Option 3 ID : 6306803281913

Option 4 ID : 6306803281914

Q.7 Select the most appropriate form of verb from the given options to replace the underlined and bracketed word in order to correct the below sentence.

This temple will (closed) after an hour.

- Ans
1. close

2. is closes

3. closing

4. was closed

Question ID : 630680837812

Option 1 ID : 6306803281962

Option 2 ID : 6306803281961

Option 3 ID : 6306803281959

Option 4 ID : 6306803281960

Q.8 Select the most appropriate meaning of the proverb below from the given options.

“The pen is mightier than the sword “

- Ans
1. Explaining something is easier through a picture than by words.

2. The written word is more effective than violence as a means of social or political change.

3. Something might not be as valuable as it seems to be.

4. People dependent on others must be content with what is offered to them.

Question ID : 630680837831

Option 1 ID : 6306803282032

Option 2 ID : 6306803282031

Option 3 ID : 6306803282033

Option 4 ID : 6306803282034

Q.9 Fill in the blanks with the most appropriate homonym in the following sentence.

Fishermen make their living from the\_\_\_\_\_.

- Ans
- 1. she
  - 2. saw
  - 3. see
  - 4. sea

Question ID : 630680837840  
Option 1 ID : 6306803282068  
Option 2 ID : 6306803282070  
Option 3 ID : 6306803282067  
Option 4 ID : 6306803282069

Q.10 Choose the most appropriate one-word substitution for the below word.

“A person with a compulsion to steal”

- Ans
- 1. Teetotaler
  - 2. Sommelier
  - 3. Kleptomaniac
  - 4. Apostate

Question ID : 630680838002  
Option 1 ID : 6306803282704  
Option 2 ID : 6306803282703  
Option 3 ID : 6306803282705  
Option 4 ID : 6306803282706

Q.11 A statement has been given with highlighted text. You are required to replace the text with correct idiom from the given options.

When they heard about the surprise quiz, the students were (not at all) excited.

- Ans
- 1. (on) cloud nine
  - 2. beating around the bush
  - 3. all ears
  - 4. anything but

Question ID : 630680838011  
Option 1 ID : 6306803282735  
Option 2 ID : 6306803282738  
Option 3 ID : 6306803282736  
Option 4 ID : 6306803282737

Q.12 Select the most appropriate form of verb from the given options to replace the underlined and bracketed word in order to correct the below sentence.

I was eager to (talks) to her, but she showed little interest.

- Ans
1. talking

2. talked

3. talk

4. be talking

Question ID : 630680837921

Option 1 ID : 6306803282386

Option 2 ID : 6306803282385

Option 3 ID : 6306803282384

Option 4 ID : 6306803282383

Q.13 Select the most appropriate form of verb from the given options to replace the underlined and bracketed word in order to correct the below sentence.

If you are busy now I will (comes) tomorrow.

- Ans
1. came

2. had come

3. come

4. be coming

Question ID : 630680837920

Option 1 ID : 6306803282380

Option 2 ID : 6306803282382

Option 3 ID : 6306803282381

Option 4 ID : 6306803282379

Q.14 Select the most appropriate form of verb from the given options to replace the underlined and bracketed word in order to correct the below sentence.

I (goes) around the town looking for my cat.

- Ans
1. am go

2. went

3. going

4. was went

Question ID : 630680837916

Option 1 ID : 6306803282366

Option 2 ID : 6306803282365

Option 3 ID : 6306803282363

Option 4 ID : 6306803282364

Q.15 Select the most appropriate SYNONYM of the word highlighted/ given in brackets in the below sentence.

Today, distance has become (insignificant) in terms of time, and travel for business, military or diplomatic reasons has become virtually immediate.

- Ans
- 1. Consequential
  - 2. Trivial
  - 3. Substantial
  - 4. Meaningful

Question ID : 630680838020  
Option 1 ID : 6306803282772  
Option 2 ID : 6306803282773  
Option 3 ID : 6306803282774  
Option 4 ID : 6306803282771

Q.16 Select the most appropriate SYNONYM of the given word below.

Deteriorate

- Ans
- 1. Develop
  - 2. Flourish
  - 3. Decline
  - 4. Upgrade

Question ID : 630680838104  
Option 1 ID : 6306803283102  
Option 2 ID : 6306803283099  
Option 3 ID : 6306803283101  
Option 4 ID : 6306803283100

Q.17 Select the most appropriate SYNONYM of the given word below.

Malicious

- Ans
- 1. Respectful
  - 2. Gracious
  - 3. Nasty
  - 4. Compassionate

Question ID : 630680837836  
Option 1 ID : 6306803282051  
Option 2 ID : 6306803282052  
Option 3 ID : 6306803282054  
Option 4 ID : 6306803282053

Q.18 Parts of the following sentence have been given as options that contain an error in spelling. Select from the below options that identify the misspelt word.

Rising global temperatures and drought have helped turn parts of Hawaii into a tindrex ahead of one of the deadliest fires in modern US history, with these conditions worsened by strong winds from a nearby cyclone.

- Ans
- 1. conditions
  - 2. worsened
  - 3. deadliest
  - 4. tindrex

Question ID : 630680838027  
Option 1 ID : 6306803282799  
Option 2 ID : 6306803282801  
Option 3 ID : 6306803282800  
Option 4 ID : 6306803282802

Q.19 Select the most appropriate SYNONYM of the word highlighted/ given in brackets in the below sentence.

The annual inflation rate, coupled with the (unscrupulousness) of some employers, has led to a situation where many people are not able to earn enough to cover their basic needs.

- Ans
- 1. Corruption
  - 2. hardwork
  - 3. Faith
  - 4. Honesty

Question ID : 630680838022  
Option 1 ID : 6306803282780  
Option 2 ID : 6306803282779  
Option 3 ID : 6306803282782  
Option 4 ID : 6306803282781

Q.20 Select the correct preposition from the below options to complete the below sentence.

I love playing cricket \_\_ summer.

- Ans
- 1. from
  - 2. on
  - 3. in
  - 4. at

Question ID : 630680838074  
Option 1 ID : 6306803282983  
Option 2 ID : 6306803282984  
Option 3 ID : 6306803282985  
Option 4 ID : 6306803282986

Q.1 Select the most appropriate form of verb from the given options to replace the underlined and bracketed word in order to correct the below sentence.

He had made his decision and refused to (changes) his mind.

- Ans
1. is changes

2. change

3. was changing

4. changed

Question ID : 630680837811

Option 1 ID : 6306803281957

Option 2 ID : 6306803281958

Option 3 ID : 6306803281955

Option 4 ID : 6306803281956

Q.2 Select the most appropriate form of verb from the given options to replace the underlined and bracketed word in order to correct the below sentence.

We are (participate) in the cultural program.

- Ans
1. participates

2. been participate

3. participating

4. participated

Question ID : 630680838084

Option 1 ID : 6306803283024

Option 2 ID : 6306803283026

Option 3 ID : 6306803283025

Option 4 ID : 6306803283023

Q.3 Fill in the blanks with the most appropriate homonym in the following sentence.

Houses built near the\_\_\_\_\_ are at greater risk of flooding.

- Ans
1. sole

2. soul

3. shore

4. sure

Question ID : 630680837943

Option 1 ID : 6306803282469

Option 2 ID : 6306803282470

Option 3 ID : 6306803282468

Option 4 ID : 6306803282467

Q.4 Select the most appropriate form of verb from the given options to replace the underlined and bracketed word in order to correct the below sentence.

It (taking) me an hour to finish the job.

- Ans
1. be taking

2. took

3. is take

4. be took

Question ID : 630680837919

Option 1 ID : 6306803282378

Option 2 ID : 6306803282375

Option 3 ID : 6306803282376

Option 4 ID : 6306803282377

Q.5 Choose the most appropriate one-word substitution for the below word.

“A collection of weapons and military equipment”

- Ans
1. Convent

2. Hangar

3. Burrow

4. Arsenal

Question ID : 630680837821

Option 1 ID : 6306803281995

Option 2 ID : 6306803281997

Option 3 ID : 6306803281996

Option 4 ID : 6306803281998

Q.6 Parts of the following sentence have been given as options that contain an error in spelling. Select from the below options that identify the misspelt word. If you don't find any error, mark “No error” as your answer.

The Renaissance first emphasized the value of scientific progress, but it was not until the 18th century Industrial Revolution in the West that the impact of science on everyday living became aparrent.

- Ans
1. No error

2. aparrent

3. impact

4. Renaissance

Question ID : 630680837842

Option 1 ID : 6306803282078

Option 2 ID : 6306803282077

Option 3 ID : 6306803282076

Option 4 ID : 6306803282075

Q.7 Choose the most appropriate one-word substitution for the below word.

“Building in which dead bodies are kept for a time”

- Ans
1. Mortuary

2. Asylum

3. Monastery

4. Sanctuary

Question ID : 630680837818

Option 1 ID : 6306803281986

Option 2 ID : 6306803281984

Option 3 ID : 6306803281985

Option 4 ID : 6306803281983

Q.8 Select the most appropriate meaning of the proverb below from the given options.

“Don’t count your chickens before they hatch”

- Ans
1. Do not delay a task if you can do it immediately

2. Do not risk everything on a single venture

3. Don’t risk everything on a single venture

4. Don’t make plans based on events that have not yet happened

Question ID : 630680838103

Option 1 ID : 6306803283097

Option 2 ID : 6306803283098

Option 3 ID : 6306803283095

Option 4 ID : 6306803283096

Q.9 Select the appropriate article from the below options to complete the sentence. Mark “No article” if there is no requirement of article in the given sentence.

She is \_\_\_\_ most beautiful girl in the class.

- Ans
1. a

2. an

3. No article

4. the

Question ID : 630680838073

Option 1 ID : 6306803282979

Option 2 ID : 6306803282982

Option 3 ID : 6306803282981

Option 4 ID : 6306803282980



Q.10 Choose the most logical order of the sentences from among the four given choices to construct a coherent paragraph.

A tsunami is a destructive natural disaster that can result in the loss of lives and property.

- A) To understand the cause of tsunamis, it is essential to have knowledge about plate tectonics, which are huge plates that form the top layer of the earth.
- B) The disruption can come from various sources, including meteorites, volcanic eruptions, landslides, and earthquakes in the sea.
- C) Tsunamis differ from normal underwater flow because they have an extended wavelength and can be caused by various factors.
- D) It is a series of long, high waves that are generated when there is a disturbance in the ocean's water.

- Ans      1. DBCA
2. ABCD
3. ACBD
4. CDBA

Question ID : 630680837816

Option 1 ID : 6306803281976

Option 2 ID : 6306803281978

Option 3 ID : 6306803281975

Option 4 ID : 6306803281977

Comprehension:

Refer to the below passage and answer the questions

Symbols can be an effective way of communicating ideas and messages. They allow us to convey complex concepts and emotions in a simple and easy-to-understand way. Symbolism can be found in many different forms of communication, from art and literature to advertising and branding. One example of symbolism is the use of colors. Different colors can have different meanings and associations. For example, red can represent passion, love, and danger, while blue can represent calmness, trust, and stability. This is why many companies use specific colors in their branding to evoke certain emotions and associations in their customers.

Another example of symbolism is the use of images and metaphors. These can be used to communicate complex ideas in a simple and easy-to-understand way. For example, a heart can be used to represent love, a dove can represent peace, and a broken chain can represent freedom. Symbolism can also be used to communicate cultural and historical meanings. For example, the American flag is a symbol of the United States and represents its history, values, and culture. Similarly, the Chinese dragon is a symbol of power and strength in Chinese culture.

The power of symbolism lies in its ability to evoke emotions, convey ideas, and communicate messages in a way that is easily understood. Symbols can be used to create a sense of identity and community, as well as to bridge cultural and linguistic barriers. Whether in art, literature, or everyday communication, symbols are a powerful tool for effective communication.

SubQuestion No : 11

Q.11 Select the most appropriate SYNONYM of the given word below.

Complex

- Ans      1. Modest
2. Simplified
3. Uniform
4. Intricate

Question ID : 630680838007

Option 1 ID : 6306803282720

Option 2 ID : 6306803282722

Option 3 ID : 6306803282719

Option 4 ID : 6306803282721

Comprehension:

Refer to the below passage and answer the questions

Symbols can be an effective way of communicating ideas and messages. They allow us to convey complex concepts and emotions in a simple and easy-to-understand way. Symbolism can be found in many different forms of communication, from art and literature to advertising and branding. One example of symbolism is the use of colors. Different colors can have different meanings and associations. For example, red can represent passion, love, and danger, while blue can represent calmness, trust, and stability. This is why many companies use specific colors in their branding to evoke certain emotions and associations in their customers.

Another example of symbolism is the use of images and metaphors. These can be used to communicate complex ideas in a simple and easy-to-understand way. For example, a heart can be used to represent love, a dove can represent peace, and a broken chain can represent freedom. Symbolism can also be used to communicate cultural and historical meanings. For example, the American flag is a symbol of the United States and represents its history, values, and culture. Similarly, the Chinese dragon is a symbol of power and strength in Chinese culture.

The power of symbolism lies in its ability to evoke emotions, convey ideas, and communicate messages in a way that is easily understood. Symbols can be used to create a sense of identity and community, as well as to bridge cultural and linguistic barriers. Whether in art, literature, or everyday communication, symbols are a powerful tool for effective communication.

SubQuestion No : 12

Q.12 Identify the suitable title for the passage.

- Ans
1. Cultural and linguistic barriers

2. The power of symbolism in communication

3. Advertising and Branding

4. Powerful tools for ineffective communication

Question ID : 630680838006

Option 1 ID : 6306803282717

Option 2 ID : 6306803282715

Option 3 ID : 6306803282718

Option 4 ID : 6306803282716

Comprehension:

Refer to the below passage and answer the questions

Symbols can be an effective way of communicating ideas and messages. They allow us to convey complex concepts and emotions in a simple and easy-to-understand way. Symbolism can be found in many different forms of communication, from art and literature to advertising and branding. One example of symbolism is the use of colors. Different colors can have different meanings and associations. For example, red can represent passion, love, and danger, while blue can represent calmness, trust, and stability. This is why many companies use specific colors in their branding to evoke certain emotions and associations in their customers.

Another example of symbolism is the use of images and metaphors. These can be used to communicate complex ideas in a simple and easy-to-understand way. For example, a heart can be used to represent love, a dove can represent peace, and a broken chain can represent freedom. Symbolism can also be used to communicate cultural and historical meanings. For example, the American flag is a symbol of the United States and represents its history, values, and culture. Similarly, the Chinese dragon is a symbol of power and strength in Chinese culture.

The power of symbolism lies in its ability to evoke emotions, convey ideas, and communicate messages in a way that is easily understood. Symbols can be used to create a sense of identity and community, as well as to bridge cultural and linguistic barriers. Whether in art, literature, or everyday communication, symbols are a powerful tool for effective communication.

SubQuestion No : 13

Q.13 Select the most appropriate ANTONYM of the given word below.

Evoke

- Ans
- 1. Encourage
  - 2. Disregard
  - 3. Elicit
  - 4. Inspire

Question ID : 630680838009  
Option 1 ID : 6306803282730  
Option 2 ID : 6306803282728  
Option 3 ID : 6306803282729  
Option 4 ID : 6306803282727

Comprehension:

Refer to the below passage and answer the questions

Symbols can be an effective way of communicating ideas and messages. They allow us to convey complex concepts and emotions in a simple and easy-to-understand way. Symbolism can be found in many different forms of communication, from art and literature to advertising and branding. One example of symbolism is the use of colors. Different colors can have different meanings and associations. For example, red can represent passion, love, and danger, while blue can represent calmness, trust, and stability. This is why many companies use specific colors in their branding to evoke certain emotions and associations in their customers.

Another example of symbolism is the use of images and metaphors. These can be used to communicate complex ideas in a simple and easy-to-understand way. For example, a heart can be used to represent love, a dove can represent peace, and a broken chain can represent freedom. Symbolism can also be used to communicate cultural and historical meanings. For example, the American flag is a symbol of the United States and represents its history, values, and culture. Similarly, the Chinese dragon is a symbol of power and strength in Chinese culture.

The power of symbolism lies in its ability to evoke emotions, convey ideas, and communicate messages in a way that is easily understood. Symbols can be used to create a sense of identity and community, as well as to bridge cultural and linguistic barriers. Whether in art, literature, or everyday communication, symbols are a powerful tool for effective communication.

SubQuestion No : 14

Q.14 Select the most appropriate SYNONYM of the given word below.

Stability

- Ans
- 1. Insecurity
  - 2. Strength
  - 3. Unstableness
  - 4. Irregularity

Question ID : 630680838008  
Option 1 ID : 6306803282723  
Option 2 ID : 6306803282726  
Option 3 ID : 6306803282725  
Option 4 ID : 6306803282724

Comprehension:

Refer to the below passage and answer the questions

Symbols can be an effective way of communicating ideas and messages. They allow us to convey complex concepts and emotions in a simple and easy-to-understand way. Symbolism can be found in many different forms of communication, from art and literature to advertising and branding. One example of symbolism is the use of colors. Different colors can have different meanings and associations. For example, red can represent passion, love, and danger, while blue can represent calmness, trust, and stability. This is why many companies use specific colors in their branding to evoke certain emotions and associations in their customers.

Another example of symbolism is the use of images and metaphors. These can be used to communicate complex ideas in a simple and easy-to-understand way. For example, a heart can be used to represent love, a dove can represent peace, and a broken chain can represent freedom. Symbolism can also be used to communicate cultural and historical meanings. For example, the American flag is a symbol of the United States and represents its history, values, and culture. Similarly, the Chinese dragon is a symbol of power and strength in Chinese culture.

The power of symbolism lies in its ability to evoke emotions, convey ideas, and communicate messages in a way that is easily understood. Symbols can be used to create a sense of identity and community, as well as to bridge cultural and linguistic barriers. Whether in art, literature, or everyday communication, symbols are a powerful tool for effective communication.

SubQuestion No : 15

Q.15 Select the most appropriate ANTONYM of the given word below.

Ability

- Ans
1. Skill

2. Capacity

3. Incapacity

4. Aptitude

Question ID : 630680838010

Option 1 ID : 6306803282734

Option 2 ID : 6306803282733

Option 3 ID : 6306803282732

Option 4 ID : 6306803282731

Comprehension:

Refer to the below passage and answer the questions

Wetlands are areas of land that are saturated with water, and they play a vital role in maintaining the health of our environment. They are home to a wide variety of plant and animal species, and they provide many benefits to humans as well. However, wetlands have been undervalued for a long time, and their destruction and degradation pose a serious threat to our planet.

Wetlands come in different types, including mangroves, freshwater swamp forests, peat swamp forests, lakes, and river systems. They are formed and characterized by water, and they are critical ecosystems for many reasons. One of their essential functions is flood prevention. Wetlands act as sponges, absorbing water during storms and releasing it slowly when water levels are low. They also slow down the flow of water, reducing its erosive force. In addition to their ecological value, wetlands also provide many socio-economic benefits. They are sources of water for domestic use, fisheries, forage resources, craft materials, and medicinal plants. Another crucial function of wetlands is water filtration. They help purify water by filtering out sedimentation and converting harmful chemicals into usable forms. Wetlands are sometimes referred to as the "kidneys" of the ecosystem because of their ability to cleanse the water. Wetlands also attract tourists who come to appreciate their natural beauty and engage in activities like boating, fishing, and birdwatching.

In conclusion, wetlands are vital ecosystems that play a critical role in maintaining the health of our environment. They provide ecological, socio-economic, and aesthetic benefits to humans and wildlife. Wetlands must be conserved, and efforts must be taken to protect them from further degradation and destruction. It is our responsibility to appreciate the importance of wetlands and take action to preserve them for future generations.

SubQuestion No : 16

Q.16 Select the most appropriate ANTONYM of the given word below.

Destruction

- Ans
- 1. Devastation
  - 2. Loss
  - 3. Protection
  - 4. Havoc

Question ID : 630680837932  
Option 1 ID : 6306803282426  
Option 2 ID : 6306803282425  
Option 3 ID : 6306803282424  
Option 4 ID : 6306803282423

Comprehension:

Refer to the below passage and answer the questions

Wetlands are areas of land that are saturated with water, and they play a vital role in maintaining the health of our environment. They are home to a wide variety of plant and animal species, and they provide many benefits to humans as well. However, wetlands have been undervalued for a long time, and their destruction and degradation pose a serious threat to our planet.

Wetlands come in different types, including mangroves, freshwater swamp forests, peat swamp forests, lakes, and river systems. They are formed and characterized by water, and they are critical ecosystems for many reasons. One of their essential functions is flood prevention. Wetlands act as sponges, absorbing water during storms and releasing it slowly when water levels are low. They also slow down the flow of water, reducing its erosive force. In addition to their ecological value, wetlands also provide many socio-economic benefits. They are sources of water for domestic use, fisheries, forage resources, craft materials, and medicinal plants. Another crucial function of wetlands is water filtration. They help purify water by filtering out sedimentation and converting harmful chemicals into usable forms. Wetlands are sometimes referred to as the "kidneys" of the ecosystem because of their ability to cleanse the water. Wetlands also attract tourists who come to appreciate their natural beauty and engage in activities like boating, fishing, and birdwatching.

In conclusion, wetlands are vital ecosystems that play a critical role in maintaining the health of our environment. They provide ecological, socio-economic, and aesthetic benefits to humans and wildlife. Wetlands must be conserved, and efforts must be taken to protect them from further degradation and destruction. It is our responsibility to appreciate the importance of wetlands and take action to preserve them for future generations.

SubQuestion No : 17

Q.17 Select the most appropriate SYNONYM of the given word below.

Vital

- Ans
- 1. Worthless
  - 2. Inconsequential
  - 3. Essential
  - 4. Insufficient

Question ID : 630680837929  
Option 1 ID : 6306803282414  
Option 2 ID : 6306803282412  
Option 3 ID : 6306803282413  
Option 4 ID : 6306803282411



Comprehension:

Refer to the below passage and answer the questions

Wetlands are areas of land that are saturated with water, and they play a vital role in maintaining the health of our environment. They are home to a wide variety of plant and animal species, and they provide many benefits to humans as well. However, wetlands have been undervalued for a long time, and their destruction and degradation pose a serious threat to our planet.

Wetlands come in different types, including mangroves, freshwater swamp forests, peat swamp forests, lakes, and river systems. They are formed and characterized by water, and they are critical ecosystems for many reasons. One of their essential functions is flood prevention. Wetlands act as sponges, absorbing water during storms and releasing it slowly when water levels are low. They also slow down the flow of water, reducing its erosive force. In addition to their ecological value, wetlands also provide many socio-economic benefits. They are sources of water for domestic use, fisheries, forage resources, craft materials, and medicinal plants. Another crucial function of wetlands is water filtration. They help purify water by filtering out sedimentation and converting harmful chemicals into usable forms. Wetlands are sometimes referred to as the "kidneys" of the ecosystem because of their ability to cleanse the water. Wetlands also attract tourists who come to appreciate their natural beauty and engage in activities like boating, fishing, and birdwatching.

In conclusion, wetlands are vital ecosystems that play a critical role in maintaining the health of our environment. They provide ecological, socio-economic, and aesthetic benefits to humans and wildlife. Wetlands must be conserved, and efforts must be taken to protect them from further degradation and destruction. It is our responsibility to appreciate the importance of wetlands and take action to preserve them for future generations.

SubQuestion No : 18

Q.18 Select the most appropriate SYNONYM of the given word below.

Aesthetic

- Ans
- 1. Attractive
  - 2. Plain
  - 3. Hideous
  - 4. Ugly

Question ID : 630680837930  
Option 1 ID : 6306803282418  
Option 2 ID : 6306803282416  
Option 3 ID : 6306803282415  
Option 4 ID : 6306803282417



Comprehension:

Refer to the below passage and answer the questions

Wetlands are areas of land that are saturated with water, and they play a vital role in maintaining the health of our environment. They are home to a wide variety of plant and animal species, and they provide many benefits to humans as well. However, wetlands have been undervalued for a long time, and their destruction and degradation pose a serious threat to our planet.

Wetlands come in different types, including mangroves, freshwater swamp forests, peat swamp forests, lakes, and river systems. They are formed and characterized by water, and they are critical ecosystems for many reasons. One of their essential functions is flood prevention. Wetlands act as sponges, absorbing water during storms and releasing it slowly when water levels are low. They also slow down the flow of water, reducing its erosive force. In addition to their ecological value, wetlands also provide many socio-economic benefits. They are sources of water for domestic use, fisheries, forage resources, craft materials, and medicinal plants. Another crucial function of wetlands is water filtration. They help purify water by filtering out sedimentation and converting harmful chemicals into usable forms. Wetlands are sometimes referred to as the "kidneys" of the ecosystem because of their ability to cleanse the water. Wetlands also attract tourists who come to appreciate their natural beauty and engage in activities like boating, fishing, and birdwatching.

In conclusion, wetlands are vital ecosystems that play a critical role in maintaining the health of our environment. They provide ecological, socio-economic, and aesthetic benefits to humans and wildlife. Wetlands must be conserved, and efforts must be taken to protect them from further degradation and destruction. It is our responsibility to appreciate the importance of wetlands and take action to preserve them for future generations.

SubQuestion No : 19

Q.19 Select the most appropriate ANTONYM of the given word below.

Appreciate

- Ans      1. Decrease
2. Rise
3. Accelerate
4. Expand

Question ID : 630680837931  
Option 1 ID : 6306803282420  
Option 2 ID : 6306803282422  
Option 3 ID : 6306803282419  
Option 4 ID : 6306803282421

### Comprehension:

Refer to the below passage and answer the questions

Wetlands are areas of land that are saturated with water, and they play a vital role in maintaining the health of our environment. They are home to a wide variety of plant and animal species, and they provide many benefits to humans as well. However, wetlands have been undervalued for a long time, and their destruction and degradation pose a serious threat to our planet.

Wetlands come in different types, including mangroves, freshwater swamp forests, peat swamp forests, lakes, and river systems. They are formed and characterized by water, and they are critical ecosystems for many reasons. One of their essential functions is flood prevention. Wetlands act as sponges, absorbing water during storms and releasing it slowly when water levels are low. They also slow down the flow of water, reducing its erosive force. In addition to their ecological value, wetlands also provide many socio-economic benefits. They are sources of water for domestic use, fisheries, forage resources, craft materials, and medicinal plants. Another crucial function of wetlands is water filtration. They help purify water by filtering out sedimentation and converting harmful chemicals into usable forms. Wetlands are sometimes referred to as the "kidneys" of the ecosystem because of their ability to cleanse the water. Wetlands also attract tourists who come to appreciate their natural beauty and engage in activities like boating, fishing, and birdwatching.

In conclusion, wetlands are vital ecosystems that play a critical role in maintaining the health of our environment. They provide ecological, socio-economic, and aesthetic benefits to humans and wildlife. Wetlands must be conserved, and efforts must be taken to protect them from further degradation and destruction. It is our responsibility to appreciate the importance of wetlands and take action to preserve them for future generations.

### SubQuestion No : 20

**Q.20 Identify the suitable title for the passage.**

- Ans**
1. Variety of plant and animal species
  2. Craft materials and medicinal plants
  3. The Importance of Wetlands
  4. Wetlands- serious threat to environment

Question ID : 630680837928  
Option 1 ID : 6306803282409  
Option 2 ID : 6306803282408  
Option 3 ID : 6306803282407  
Option 4 ID : 6306803282410

### Section : Test of Hindi Language and Comprehension 1

**Q.1** दिए गए वाक्य में क्रम सही नहीं है। उनके सही क्रम के चार विकल्प दिए गये हैं। उनमें से सही विकल्प का चयन करें।

- 1) कि वे अपने
- 2) भारतीयों को चाहिए
- 3) भारत हमारा है
- 4) बच्चों को बतायें कि

- Ans**
1. 1,3,4,2
  2. 4,2,1,3
  3. 3,1,4,2
  4. 2,1,4,3

Question ID : 630680840615  
Option 1 ID : 6306803293126  
Option 2 ID : 6306803293128  
Option 3 ID : 6306803293125  
Option 4 ID : 6306803293127

7/5/24, 11:53 AM

cdn.di ialm.com// er/ 01/ ub/1258/touchstone/AssessmentQPHTMLMode1//1258O24204/1258O24204S7D1091/1718799232809...

Q.2 'अधजल गगरी छलकत जाये' लोकोक्ति का उचित अर्थ निम्नलिखित में से क्या होगा?

Ans

1. मूर्ख होना
2. डींग हांकना
3. काम करने पर उतारू होना
4. बहाना बनाना

Question ID : 630680840570  
Option 1 ID : 6306803292954  
Option 2 ID : 6306803292953  
Option 3 ID : 6306803292955  
Option 4 ID : 6306803292956

Q.3 उनके नेत्रों में बड़ी \_\_\_\_\_ है ।

इस वाक्य में रिक्त स्थान की पूर्ति शुद्ध शब्द द्वारा कीजिये

Ans

1. पीढ़ा
2. पिढा
3. पीड़ा
4. पिडा

Question ID : 630680840639  
Option 1 ID : 6306803293224  
Option 2 ID : 6306803293221  
Option 3 ID : 6306803293223  
Option 4 ID : 6306803293222

Q.4 दिए गए विकल्पों में से रिक्त स्थानों की पूर्ति कीजिये ।

दुश्मन \_\_\_\_\_ छोड़कर भाग खड़े हुए ।

Ans

1. मैदान
2. दोस्त
3. दुश्मन
4. माँ

Question ID : 630680840550  
Option 1 ID : 6306803292875  
Option 2 ID : 6306803292873  
Option 3 ID : 6306803292874  
Option 4 ID : 6306803292876

Q.5 निम्नलिखित में से 'रंग लाना' मुहावरे का उचित अर्थ क्या है?

Ans

1. असर दिखाना
2. छिप जाना
3. धाक न जमना
4. एहसान मानना

Question ID : 630680840630  
Option 1 ID : 6306803293185  
Option 2 ID : 6306803293188  
Option 3 ID : 6306803293186  
Option 4 ID : 6306803293187

Q.6 निम्नलिखित में से 'चिराग तले अँधेरा' लोकोक्ति का उचित अर्थ क्या है?

Ans

1. अधिक लाभ
2. एक काम से दूसरा काम हो जाना
3. काम न जानना
4. अपनी बुराई नहीं दिखती

Question ID : 630680840571  
Option 1 ID : 6306803292958  
Option 2 ID : 6306803292959  
Option 3 ID : 6306803292957  
Option 4 ID : 6306803292960

Q.7 दिए गए विकल्पों में से रिक्त स्थानों की पूर्ति कीजिये ।

बुद्धिमान व्यक्ति \_\_\_\_\_ से काम लेते हैं।

Ans

1. आरामों
2. साहसी
3. सोच के
4. धैर्य

Question ID : 630680840614  
Option 1 ID : 6306803293121  
Option 2 ID : 6306803293123  
Option 3 ID : 6306803293124  
Option 4 ID : 6306803293122

Q.8 दशा , स्वाद , दिशा , समय इत्यादि विशेषण के कौन-से भेद हैं?

Ans

1. संख्यावाचक विशेषण
2. गुणवाचक विशेषण
3. संबंधवाचक विशेषण
4. परिमाणवाचक विशेषण

Question ID : 630680840629  
Option 1 ID : 6306803293182  
Option 2 ID : 6306803293181  
Option 3 ID : 6306803293184  
Option 4 ID : 6306803293183

Q.9 यह सभी \_\_\_\_\_ के लिए है ।

इस वाक्य में रिक्त स्थान की पूर्ति शुद्ध शब्द द्वारा कीजिये।

Ans

1. प्रनिमात्र
2. प्राणियों
3. प्रानीमात्र
4. प्राणीमात्र

Question ID : 630680840574  
Option 1 ID : 6306803292969  
Option 2 ID : 6306803292970  
Option 3 ID : 6306803292972  
Option 4 ID : 6306803292971

Q.10 निम्नलिखित वाक्यों में से अशुद्ध वाक्य का चयन करें।

- Ans
1. बहुसंख्यक मनुष्य यहाँ आये थे ।
  2. बिजली का अविष्कार किसने किया ?
  3. प्राण निकल गये ।
  4. श्याम ने पुस्तक खरीदी।

Question ID : 630680840611  
Option 1 ID : 6306803293111  
Option 2 ID : 6306803293109  
Option 3 ID : 6306803293112  
Option 4 ID : 6306803293110

Q.11 निम्नलिखित विकल्पों में से कौन-सा एक वाक्य क्रिया-विशेषण से सम्बन्ध रखता है ?

- Ans
1. चोरों को पीटा गया ।
  2. सीता खाती है ।
  3. वह बहुत धीरे चलता है ।
  4. अजय सुनता है ।

Question ID : 630680840628  
Option 1 ID : 6306803293177  
Option 2 ID : 6306803293179  
Option 3 ID : 6306803293180  
Option 4 ID : 6306803293178

Q.12 दिए गए वाक्य में क्रम सही नहीं है । उनके सही क्रम के चार विकल्प दिए गये हैं । उनमें से सही विकल्प चुनिए

- 1) नागेंद्र की अपील
- 2) छह महीने की
- 3) मंजूर हो गयी
- 4) सजा पानेवाले

- Ans
1. 1,4,3,2
  2. 4,1,3,2
  3. 2,4,1,3
  4. 3,1,4,2

Question ID : 630680840623  
Option 1 ID : 6306803293157  
Option 2 ID : 6306803293160  
Option 3 ID : 6306803293158  
Option 4 ID : 6306803293159

Q.13 आजकल \_\_\_\_\_ का बोलबाला है ।

इस वाक्य में रिक्त स्थान की पूर्ति शुद्ध शब्द द्वारा कीजिये

- Ans
1. भरष्टाचार
  2. भ्रष्टाचार
  3. भ्रष्टाचार
  4. भ्रष्टाचार

Question ID : 630680840636  
Option 1 ID : 6306803293209  
Option 2 ID : 6306803293212  
Option 3 ID : 6306803293211  
Option 4 ID : 6306803293210

Q.14 आगरा \_\_\_\_\_ स्थल है ।

इस वाक्य में रिक्त स्थान की पूर्ति शुद्ध शब्द द्वारा कीजिये

- Ans
1. दरसनीय
  2. दर्शनिय
  3. दर्शनीय
  4. दरसनिय

Question ID : 630680840575  
Option 1 ID : 6306803292973  
Option 2 ID : 6306803292974  
Option 3 ID : 6306803292976  
Option 4 ID : 6306803292975

Q.15 निम्नलिखित विकल्पों में से कौन सा एक वाक्य क्रिया-विशेषण से सम्बन्ध रखता है ?

- Ans
1. महिमा सो रही है ।
  2. शेर जंगल में रहता है ।
  3. रमण रो रहा है ।
  4. राम धीरे-धीरे टहलता है ।

Question ID : 630680840563  
Option 1 ID : 6306803292927  
Option 2 ID : 6306803292925  
Option 3 ID : 6306803292926  
Option 4 ID : 6306803292928

Q.16 'हजामत बनाना' मुहावरे का उचित अर्थ निम्नलिखित में से कौन-सा है?

- Ans
1. बेवकूफ बनाकर ठगना
  2. मारपीट करना
  3. गुस्सा होना
  4. उपहास करना

Question ID : 630680840568  
Option 1 ID : 6306803292947  
Option 2 ID : 6306803292948  
Option 3 ID : 6306803292945  
Option 4 ID : 6306803292946

7/5/24, 11:53 AM

cdn.di ialm.com// er/ 01/ ub/1258/touchstone/AssessmentQPHTMLMode1//1258O24204/1258O24204S7D1091/1718799232809...

Q.17 संख्यावाचक विशेषण के कितने भेद होते हैं ?

- Ans
1. चार
  2. छह
  3. दो
  4. पाँच

Question ID : 630680840565  
Option 1 ID : 6306803292933  
Option 2 ID : 6306803292935  
Option 3 ID : 6306803292936  
Option 4 ID : 6306803292934

Q.18 क्रिया के कितने भेद होते हैं ?

- Ans
1. चार
  2. तीन
  3. दो
  4. छह

Question ID : 630680840627  
Option 1 ID : 6306803293173  
Option 2 ID : 6306803293175  
Option 3 ID : 6306803293174  
Option 4 ID : 6306803293176

Q.19 'अंगूठा दिखाना' मुहावरे का उचित अर्थ क्या होता है?

- Ans
1. चाल चलाना
  2. संकट मोल लेना
  3. छिप जाना
  4. समय पर धोखा देना

Question ID : 630680840566  
Option 1 ID : 6306803292938  
Option 2 ID : 6306803292939  
Option 3 ID : 6306803292940  
Option 4 ID : 6306803292937

Q.20 दिए गए विकल्पों में से रिक्त स्थानों की पूर्ति कीजिये ।

प्रसाद के नाटकों का अभिनय \_\_\_\_\_ होना चाहिए।

- Ans
1. सुरक्षित
  2. चमकीला
  3. आकर्षक
  4. सुमति

Question ID : 630680840548  
Option 1 ID : 6306803292867  
Option 2 ID : 6306803292866  
Option 3 ID : 6306803292865  
Option 4 ID : 6306803292868

## Section : Test of Hindi Language and Comprehension 2

Q.1 निम्नलिखित में से 'मान' का अनेकार्थक शब्द क्या होगा?

Ans

1. चमक
2. अस्तित्व
3. मोक्ष
4. अभिमान

Question ID : 630680840580  
Option 1 ID : 6306803292995  
Option 2 ID : 6306803292993  
Option 3 ID : 6306803292996  
Option 4 ID : 6306803292994

Q.2 निम्नलिखित में से 'मृदुल' का विलोम शब्द क्या होगा?

Ans

1. कठोर
2. खराब
3. कठिन
4. सरल

Question ID : 630680840587  
Option 1 ID : 6306803293022  
Option 2 ID : 6306803293023  
Option 3 ID : 6306803293021  
Option 4 ID : 6306803293024

Q.3 निम्नलिखित में से 'अभिमान' का पर्यायावाची शब्द क्या होगा?

Ans

1. अहंनिका
2. असीम
3. विपिन
4. अनादर

Question ID : 630680840585  
Option 1 ID : 6306803293015  
Option 2 ID : 6306803293014  
Option 3 ID : 6306803293016  
Option 4 ID : 6306803293013

Q.4 निम्नलिखित वाक्यों में से कौन-सा वाक्य अशुद्ध है?

Ans

1. पिताजी गदगद हो गये।
2. दो रुपये से वह खुश नहीं हुआ।
3. तालाब में छोटा-सा मंदिर है।
4. "नौका-विहार" कविता अनेकों भावों को व्यक्त करती है।

Question ID : 630680840616  
Option 1 ID : 6306803293131  
Option 2 ID : 6306803293132  
Option 3 ID : 6306803293129  
Option 4 ID : 6306803293130



7/5/24, 11:53 AM

cdn.di.ialm.com// er/ 01/ ub/1258/touchstone/AssessmentQPHTMLMode1//1258O24204/1258O24204S7D1091/1718799232809...

Q.5 निम्नलिखित में से 'असमय' का विलोम शब्द क्या होगा?

Ans

1. समय
2. सुसमय
3. असमय
4. अनसमय

Question ID : 630680840586  
Option 1 ID : 6306803293019  
Option 2 ID : 6306803293018  
Option 3 ID : 6306803293017  
Option 4 ID : 6306803293020

Q.6 निम्नलिखित में से 'अग्र' का अनेकार्थक शब्द नहीं है ?

Ans

1. अधिक
2. शिव
3. शिखर
4. मुख्य

Question ID : 630680840642  
Option 1 ID : 6306803293234  
Option 2 ID : 6306803293233  
Option 3 ID : 6306803293235  
Option 4 ID : 6306803293236

Q.7 निम्नलिखित में से 'चन्द्रमा' का पर्यायवाची शब्द क्या होगा?

Ans

1. रजनीपति
2. निलय
3. नागर
4. जोन्हा

Question ID : 630680840646  
Option 1 ID : 6306803293251  
Option 2 ID : 6306803293252  
Option 3 ID : 6306803293250  
Option 4 ID : 6306803293249

Q.8 ऐसे शब्द , जो संस्कृत और प्राकृत से विकृत होकर हिंदी में आये हैं , उसे क्या कहते हैं?

Ans

1. विदेशज
2. तद्भव
3. तत्सम
4. देशज

Question ID : 630680840641  
Option 1 ID : 6306803293232  
Option 2 ID : 6306803293231  
Option 3 ID : 6306803293230  
Option 4 ID : 6306803293229

7/5/24, 11:53 AM

cdn.di ialm.com// er/ 01/ ub/1258/touchstone/AssessmentQPHTMLMode1//1258O24204/1258O24204S7D1091/1718799232809...

Q.9 निम्नलिखित वाक्यों में से शुद्ध वाक्य का चयन करें।

Ans

- निराशा की किरणें छाई हुई है ।
- पिता का उत्तरदायित्व पुत्र पर होता है ।
- पिता जी आज मुझे एक रुपये दिये है ।
- नदिए बह रही है ।

Question ID : 630680840617  
Option 1 ID : 6306803293133  
Option 2 ID : 6306803293135  
Option 3 ID : 6306803293136  
Option 4 ID : 6306803293134

Q.10 निम्नलिखित में से कौन-सा शब्द “सुई” का तत्सम शब्द है।

Ans

- शत
- सत्तुत
- शलाका
- सूची

Question ID : 630680840579  
Option 1 ID : 6306803292992  
Option 2 ID : 6306803292990  
Option 3 ID : 6306803292991  
Option 4 ID : 6306803292989

Comprehension:

नीचे दिये गए गद्यांश को ध्यानपूर्वक पढ़ें और बिना किसी सामान्य ज्ञान एवं साहित्य के तथ्यों की परवाह किए बिना, केवल नीचे दिये गए गद्यांश के आधार पर ही सही उत्तर का चयन करें।

एक प्रसिद्ध जीवनशास्त्री का कहना है कि जिन्दगी संघर्ष से भरी हुई है । एक के बाद एक खींच-तान लगी ही रहती है और चैन नहीं मिल पाता । इसलिए जीवन में उन क्षणों की बहुत कीमत है , जो जीवन को गुदगुदा दे और खींच-तान की तेजी को भुला दे । इस जीवनशास्त्री ने लोगों को एक बड़ा दिलचस्प मशविरा दिया है कि जब तुम अपने किसी मित्र-दोस्त से बात करने बैठो , तो घड़ी का मुँह दीवार की तरफ कर दो । जब उससे पूछा गया कि बातचीत और घड़ी का क्या सम्बन्ध है , तो उत्तर मिला कि वह कमबख्त याद दिलाती रहती है कि इतनी देर हो गयी--इतनी देर हो गयी और इस तरह वह आनन्द-क्षण खंडित हो जाता है, जो मित्र की बातचीत से मिलता है ।

SubQuestion No : 11

Q.11 जीवन में कौन से क्षण मूल्यवान है ?

Ans

- जो जीवन में चैन से बैठने न दे ।
- जो जीवन में आलस को भर दे।
- जो जीवन की खींच-तान की तेजी को भुला दे ।
- जो जीवन को संघर्ष से भर दे।

Question ID : 630680840607  
Option 1 ID : 6306803293095  
Option 2 ID : 6306803293093  
Option 3 ID : 6306803293094  
Option 4 ID : 6306803293096

### Comprehension:

नीचे दिये गए गद्यांश को ध्यानपूर्वक पढ़ें और बिना किसी सामान्य ज्ञान एवं साहित्य के तथ्यों की परवाह किए बिना, केवल नीचे दिये गए गद्यांश के आधार पर ही सही उत्तर का चयन करें।

एक प्रसिद्ध जीवनशास्त्री का कहना है कि जिन्दगी संघर्ष से भरी हुई है। एक के बाद एक खींच-तान लगी ही रहती है और चैन नहीं मिल पाता। इसलिए जीवन में उन क्षणों की बहुत कीमत है, जो जीवन को गुदगुदा दे और खींच-तान की तेजी को भुला दे। इस जीवनशास्त्री ने लोगों को एक बड़ा दिलचस्प मशविरा दिया है कि जब तुम अपने किसी मित्र-दोस्त से बात करने बैठो, तो घड़ी का मुँह दीवार की तरफ कर दो। जब उससे पूछा गया कि बातचीत और घड़ी का क्या सम्बन्ध है, तो उत्तर मिला कि वह कमबख्त याद दिलाती रहती है कि इतनी देर हो गयी--इतनी देर हो गयी और इस तरह वह आनन्द-क्षण खंडित हो जाता है, जो मित्र की बातचीत से मिलता है।

### SubQuestion No : 12

Q.12 जीवन में उन क्षणों की बहुत कीमत है, जो जीवन को \_\_\_\_\_ दे और खींच-तान की तेजी को भुला दे।

- Ans
1. खुशियों से दूर कर दे
  2. गुदगुदा
  3. संवार
  4. रुला

Question ID : 630680840609  
Option 1 ID : 6306803293104  
Option 2 ID : 6306803293102  
Option 3 ID : 6306803293103  
Option 4 ID : 6306803293101

### Comprehension:

नीचे दिये गए गद्यांश को ध्यानपूर्वक पढ़ें और बिना किसी सामान्य ज्ञान एवं साहित्य के तथ्यों की परवाह किए बिना, केवल नीचे दिये गए गद्यांश के आधार पर ही सही उत्तर का चयन करें।

एक प्रसिद्ध जीवनशास्त्री का कहना है कि जिन्दगी संघर्ष से भरी हुई है। एक के बाद एक खींच-तान लगी ही रहती है और चैन नहीं मिल पाता। इसलिए जीवन में उन क्षणों की बहुत कीमत है, जो जीवन को गुदगुदा दे और खींच-तान की तेजी को भुला दे। इस जीवनशास्त्री ने लोगों को एक बड़ा दिलचस्प मशविरा दिया है कि जब तुम अपने किसी मित्र-दोस्त से बात करने बैठो, तो घड़ी का मुँह दीवार की तरफ कर दो। जब उससे पूछा गया कि बातचीत और घड़ी का क्या सम्बन्ध है, तो उत्तर मिला कि वह कमबख्त याद दिलाती रहती है कि इतनी देर हो गयी--इतनी देर हो गयी और इस तरह वह आनन्द-क्षण खंडित हो जाता है, जो मित्र की बातचीत से मिलता है।

### SubQuestion No : 13

Q.13 जिंदगी किससे भरी हुई है ?

- Ans
1. आलस से
  2. श्रम से
  3. संकटों से
  4. संघर्ष से

Question ID : 630680840606  
Option 1 ID : 6306803293090  
Option 2 ID : 6306803293089  
Option 3 ID : 6306803293092  
Option 4 ID : 6306803293091

### Comprehension:

नीचे दिये गए गद्यांश को ध्यानपूर्वक पढ़ें और बिना किसी सामान्य ज्ञान एवं साहित्य के तथ्यों की परवाह किए बिना, केवल नीचे दिये गए गद्यांश के आधार पर ही सही उत्तर का चयन करें।

एक प्रसिद्ध जीवनशास्त्री का कहना है कि जिन्दगी संघर्ष से भरी हुई है। एक के बाद एक खींच-तान लगी ही रहती है और चैन नहीं मिल पाता। इसलिए जीवन में उन क्षणों की बहुत कीमत है, जो जीवन को गुदगुदा दे और खींच-तान की तेजी को भुला दे। इस जीवनशास्त्री ने लोगों को एक बड़ा दिलचस्प मशविरा दिया है कि जब तुम अपने किसी मित्र-दोस्त से बात करने बैठो, तो घड़ी का मुँह दीवार की तरफ कर दो। जब उससे पूछा गया कि बातचीत और घड़ी का क्या सम्बन्ध है, तो उत्तर मिला कि वह कमबख्त याद दिलाती रहती है कि इतनी देर हो गयी--इतनी देर हो गयी और इस तरह वह आनन्द-क्षण खंडित हो जाता है, जो मित्र की बातचीत से मिलता है।

### SubQuestion No : 14

Q.14 मित्र का पर्यावाची शब्द निम्नलिखित में से कौन है?

Ans

1. अराति
2. अरि
3. वैरी
4. सहचर

Question ID : 630680840608  
Option 1 ID : 6306803293097  
Option 2 ID : 6306803293098  
Option 3 ID : 6306803293099  
Option 4 ID : 6306803293100

### Comprehension:

नीचे दिये गए गद्यांश को ध्यानपूर्वक पढ़ें और बिना किसी सामान्य ज्ञान एवं साहित्य के तथ्यों की परवाह किए बिना, केवल नीचे दिये गए गद्यांश के आधार पर ही सही उत्तर का चयन करें।

एक प्रसिद्ध जीवनशास्त्री का कहना है कि जिन्दगी संघर्ष से भरी हुई है। एक के बाद एक खींच-तान लगी ही रहती है और चैन नहीं मिल पाता। इसलिए जीवन में उन क्षणों की बहुत कीमत है, जो जीवन को गुदगुदा दे और खींच-तान की तेजी को भुला दे। इस जीवनशास्त्री ने लोगों को एक बड़ा दिलचस्प मशविरा दिया है कि जब तुम अपने किसी मित्र-दोस्त से बात करने बैठो, तो घड़ी का मुँह दीवार की तरफ कर दो। जब उससे पूछा गया कि बातचीत और घड़ी का क्या सम्बन्ध है, तो उत्तर मिला कि वह कमबख्त याद दिलाती रहती है कि इतनी देर हो गयी--इतनी देर हो गयी और इस तरह वह आनन्द-क्षण खंडित हो जाता है, जो मित्र की बातचीत से मिलता है।

### SubQuestion No : 15

Q.15 निम्नलिखित में से कौन याद दिलाती रहती है कि इतनी देर हो गयी--इतनी देर हो गयी और इस तरह वह आनन्द-क्षण खंडित हो जाता है, जो मित्र की बातचीत से मिलता है।

Ans

1. मित्र की संगति
2. घड़ी
3. दीवार
4. संघर्ष

Question ID : 630680840610  
Option 1 ID : 6306803293108  
Option 2 ID : 6306803293106  
Option 3 ID : 6306803293105  
Option 4 ID : 6306803293107

**Comprehension:**

नीचे दिये गए गद्यांश को ध्यानपूर्वक पढ़ें और बिना किसी सामान्य ज्ञान एवं साहित्य के तथ्यों की परवाह किए बिना, केवल नीचे दिये गए गद्यांश के आधार पर ही सही उत्तर का चयन करें।

किसी बात की प्राप्ति केवल इच्छा-मात्र से नहीं होती केवल चाहने से नहीं होती, बल्कि उसके लिए अथवसाय करना पड़ता है। श्रम का वरण करना पड़ता है। घोर आपदाओं और संकटों में भी अपने कर्तव्य से विचलित नहीं होनेवाला व्यक्ति ही विजयी होता है। संसार में जितने भी महान पुरुष हुए हैं, उन्होंने प्रतिकूल परिस्थितियों से जमकर संघर्ष किया है और धैर्यपूर्वक निर्भय होकर दृढ़ संकल्प के साथ आगे कदम बढ़ाते हुए सफलता के शीर्ष पर पहुँच गये हैं। सागर की गहराई से डरकर किनारे पर बैठे रहनेवाले बौराहों के हाथ मोती कैसे लग सकता है।

**SubQuestion No : 16**

**Q.16** संसार में जितने भी महान पुरुष हुए हैं, उन्होंने प्रतिकूल परिस्थितियों से जमकर क्या किया है?

**Ans**

1. संघर्ष
2. पढ़ाई
3. मेहनत
4. सहयोग

Question ID : 630680840544  
Option 1 ID : 6306803292852  
Option 2 ID : 6306803292850  
Option 3 ID : 6306803292851  
Option 4 ID : 6306803292849

**Comprehension:**

नीचे दिये गए गद्यांश को ध्यानपूर्वक पढ़ें और बिना किसी सामान्य ज्ञान एवं साहित्य के तथ्यों की परवाह किए बिना, केवल नीचे दिये गए गद्यांश के आधार पर ही सही उत्तर का चयन करें।

किसी बात की प्राप्ति केवल इच्छा-मात्र से नहीं होती केवल चाहने से नहीं होती, बल्कि उसके लिए अथवसाय करना पड़ता है। श्रम का वरण करना पड़ता है। घोर आपदाओं और संकटों में भी अपने कर्तव्य से विचलित नहीं होनेवाला व्यक्ति ही विजयी होता है। संसार में जितने भी महान पुरुष हुए हैं, उन्होंने प्रतिकूल परिस्थितियों से जमकर संघर्ष किया है और धैर्यपूर्वक निर्भय होकर दृढ़ संकल्प के साथ आगे कदम बढ़ाते हुए सफलता के शीर्ष पर पहुँच गये हैं। सागर की गहराई से डरकर किनारे पर बैठे रहनेवाले बौराहों के हाथ मोती कैसे लग सकता है।

**SubQuestion No : 17**

**Q.17** किस प्रकार का व्यक्ति विजयी होता है ?

**Ans**

1. किसी बात की इच्छा रखने वाला
2. किनारे पर बैठे रहने वाला
3. जो कर्तव्य से विचलित न हो
4. संकटों से भागने वाला

Question ID : 630680840541  
Option 1 ID : 6306803292839  
Option 2 ID : 6306803292840  
Option 3 ID : 6306803292838  
Option 4 ID : 6306803292837

**Comprehension:**

नीचे दिये गए गद्यांश को ध्यानपूर्वक पढ़ें और बिना किसी सामान्य ज्ञान एवं साहित्य के तथ्यों की परवाह किए बिना, केवल नीचे दिये गए गद्यांश के आधार पर ही सही उत्तर का चयन करें।

किसी बात की प्राप्ति केवल इच्छा-मात्र से नहीं होती केवल चाहने से नहीं होती, बल्कि उसके लिए अथवसाय करना पड़ता है। श्रम का वरण करना पड़ता है। घोर आपदाओं और संकटों में भी अपने कर्तव्य से विचलित नहीं होनेवाला व्यक्ति ही विजयी होता है। संसार में जितने भी महान पुरुष हुए हैं, उन्होंने प्रतिकूल परिस्थितियों से जमकर संघर्ष किया है और धैर्यपूर्वक निर्भय होकर दृढ़ संकल्प के साथ आगे कदम बढ़ाते हुए सफलता के शीर्ष पर पहुँच गये हैं। सागर की गहराई से डरकर किनारे पर बैठे रहनेवाले बौराहों के हाथ मोती कैसे लग सकता है।

**SubQuestion No : 18**

**Q.18** किसी बात की प्राप्ति केवल इच्छा-मात्र एवं चाहने के अलावा कैसे होती है ?

- Ans**
1. आलस से
  2. संकटों से
  3. श्रम के वरण से
  4. संघर्ष से

Question ID : 630680840540  
Option 1 ID : 6306803292834  
Option 2 ID : 6306803292836  
Option 3 ID : 6306803292833  
Option 4 ID : 6306803292835

**Comprehension:**

नीचे दिये गए गद्यांश को ध्यानपूर्वक पढ़ें और बिना किसी सामान्य ज्ञान एवं साहित्य के तथ्यों की परवाह किए बिना, केवल नीचे दिये गए गद्यांश के आधार पर ही सही उत्तर का चयन करें।

किसी बात की प्राप्ति केवल इच्छा-मात्र से नहीं होती केवल चाहने से नहीं होती, बल्कि उसके लिए अथवसाय करना पड़ता है। श्रम का वरण करना पड़ता है। घोर आपदाओं और संकटों में भी अपने कर्तव्य से विचलित नहीं होनेवाला व्यक्ति ही विजयी होता है। संसार में जितने भी महान पुरुष हुए हैं, उन्होंने प्रतिकूल परिस्थितियों से जमकर संघर्ष किया है और धैर्यपूर्वक निर्भय होकर दृढ़ संकल्प के साथ आगे कदम बढ़ाते हुए सफलता के शीर्ष पर पहुँच गये हैं। सागर की गहराई से डरकर किनारे पर बैठे रहनेवाले बौराहों के हाथ मोती कैसे लग सकता है।

**SubQuestion No : 19**

**Q.19** घोर आपदाओं और संकटों में भी अपने कर्तव्य से विचलित नहीं होनेवाला व्यक्ति ही \_\_\_\_\_ होता है।

- Ans**
1. ज्ञानी
  2. विजयी
  3. सुंदर
  4. मेहनती

Question ID : 630680840543  
Option 1 ID : 6306803292848  
Option 2 ID : 6306803292847  
Option 3 ID : 6306803292846  
Option 4 ID : 6306803292845

### Comprehension:

नीचे दिये गए गद्यांश को ध्यानपूर्वक पढ़ें और बिना किसी सामान्य ज्ञान एवं साहित्य के तथ्यों की परवाह किए बिना, केवल नीचे दिये गए गद्यांश के आधार पर ही सही उत्तर का चयन करें।

किसी बात की प्राप्ति केवल इच्छा-मात्र से नहीं होती केवल चाहने से नहीं होती, बल्कि उसके लिए अथवसाय करना पड़ता है। श्रम का वरण करना पड़ता है। घोर आपदाओं और संकटों में भी अपने कर्तव्य से विचलित नहीं होनेवाला व्यक्ति ही विजयी होता है। संसार में जितने भी महान पुरुष हुए हैं, उन्होंने प्रतिकूल परिस्थितियों से जमकर संघर्ष किया है और धैर्यपूर्वक निर्भय होकर दृढ़ संकल्प के साथ आगे कदम बढ़ाते हुए सफलता के शीर्ष पर पहुँच गये हैं। सागर की गहराई से डरकर किनारे पर बैठे रहनेवाले बौराहों के हाथ मोती कैसे लग सकता है।

### SubQuestion No : 20

Q.20 किससे डरकर किनारों पर बैठे रहनेवाले बौराहों के हाथ मोती नहीं लगता है?

- Ans
1. सागर की गहराई से
  2. इच्छा से
  3. केवल श्रम से
  4. संघर्ष

Question ID : 630680840542  
Option 1 ID : 6306803292843  
Option 2 ID : 6306803292842  
Option 3 ID : 6306803292841  
Option 4 ID : 6306803292844

